

令和3年度一般選抜学力検査問題

社 会

(5 時間目 50分)

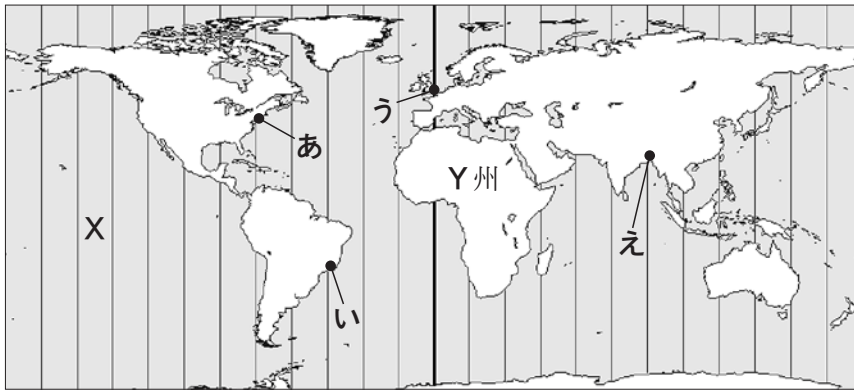
注 意

- 1 問題用紙と解答用紙の両方の決められた欄に，受検番号と氏名を記入しなさい。
- 2 問題用紙は開始の合図があるまで開いてはいけません。
- 3 問題は1 ページから6 ページまであり，これとは別に解答用紙が1 枚あります。
- 4 答えは，すべて解答用紙に記入しなさい。

受検番号		氏 名	
------	--	-----	--

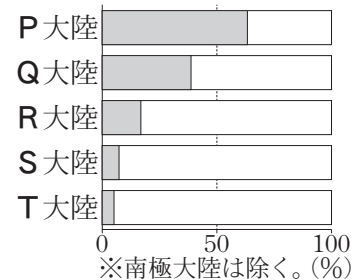
1 次の地図と図、表を見て、(1)～(4)の問いに答えなさい。

地図



※本初子午線を基準に、経線を15°ごとに引いている地図。

図1 各大陸における熱帯の面積の割合
■熱帯 □その他



※南極大陸は除く。(%)
〔データブックオブ・ザ・ワールド 2020年版〕から作成

図2 外国に住んでいる中学生Aさんとの会話

いま日本は午後8時。わたしは、㉑いろいろな国や地域の特徴について調べているところよ。

Aさん
こっちは、いま午前8時だよ。今日は、㉒発展途上国の課題について勉強しようと思っているんだ。

※サマータイム制度は考えないものとする。

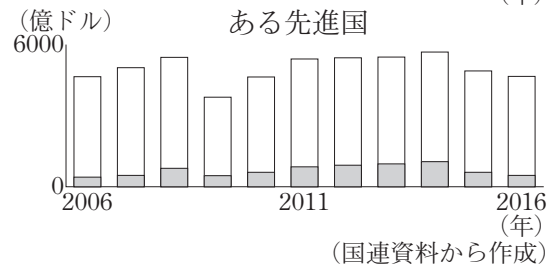
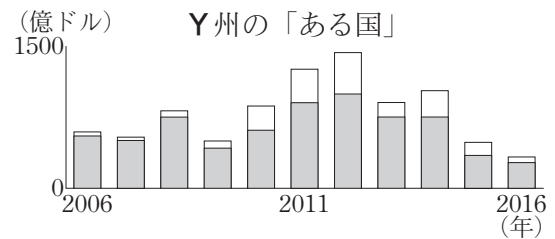
表 国や地域の比較 (2017年)

項目 国・地域	面積 (千km ²)	人口 (百万人)	GDP (億ドル)	貿易額(億ドル)	
				輸出	輸入
ア	8 516	209	20 555	2 178	1 575
イ	4 374	511	173 065	56 927	56 140
ウ	9 834	325	194 854	15 467	24 095
エ	9 600	1 421	122 378	22 804	18 423
オ	378	128	48 724	6 982	6 713

〔世界国勢図会2019/20年版〕などから作成

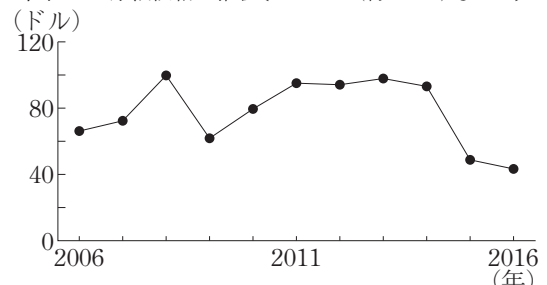
- (1) 地図のXの海洋名を書きなさい。
- (2) 日本の標準時子午線上に国土を有する国のうち、最も面積の大きい国の名称を書きなさい。
- (3) 図1のP大陸の名称を書きなさい。
- (4) 図2に関連した問題である。
 - ① 二人の会話から、Aさんが住んでいる位置を、地図のあ～えから一つ選んで記号を書きなさい。
 - ② 下線部㉑について、表のア～オは、それぞれ日本、アメリカ、ブラジル、中国、EUのいずれかを示している。EUを示すものを、一つ選んで記号を書きなさい。
 - ③ 下線部㉒について、地図のY州の「ある国」の輸出総額が安定しない理由を、図3と図4から読みとれることを関連づけて書きなさい。

図3 輸出総額に占める原油の推移の比較
■原油 □その他



(国連資料から作成)

図4 原油価格の推移〔1バレル(約159L)あたり〕



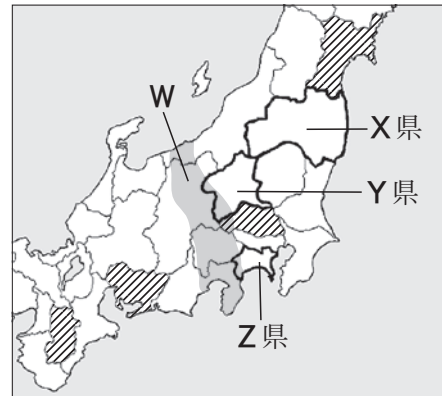
〔世界国勢図会2019/20年版〕から作成

2 次は、生徒が日本の地域的特色をレポートにまとめるためのメモの一部である。これと地図や表、図を見て、(1)～(5)の問いに答えなさい。

メモ

- 日本は、北海道、**あ**、四国、九州の面積の大きな四つの島と周辺の島々で構成され、**a**標高の高い山々や火山が連なっている。
- 三大都市圏や地方中枢都市に人口が集中し、**b**交通網の発達などにより他地域と結びついている。
- **c**気候や地形の特色を生かした多様な農業を展開している。
- 関東地方から九州地方北部にかけての海沿いに工業地域が形成され、近年では**d**内陸部にも工場が増えている。

地図



- (1) **あ**にあてはまる語を書きなさい。
- (2) 下線部**a**について、山地や山脈が大きく向きを変える地図の**W**で示した一帯の名称を書きなさい。
- (3) 下線部**b**について、表1の**A～D**は、それぞれ地図の**斜線**で示した4県のいずれかを示している。**C**にあてはまる県名を書きなさい。
- (4) 下線部**c**について、次は、地図に示した**X**県と宮崎県を比較した表2の説明である。**い**にあてはまる語を、下の**ア～エ**から一つ選んで記号を書きなさい。また、**う**にあてはまる内容を、次の語を用いて書きなさい。〔価格〕

宮崎県のきゅうり農家では、冬の温暖な気候の下で、ビニールハウス等を利用する**い**の特色を生かし、**う**、利益を上げている。

- ア** 焼畑農業 **イ** 混合農業
ウ 地中海式農業 **エ** 施設園芸農業

- (5) 地図の**Y**県と**Z**県に関連した問題である。下線部**d**について、表3の**Y**県に見られる変化の理由を、図1と図2から読みとれることを関連づけて、次の語を用いて書きなさい。〔輸送用機械 敷地〕

表1 人口に関する統計(2015年)

項目 県	人口密度 (人/km ²)	* ¹ 昼夜間人口比率	* ² 人口増減率 (%)
A	1 446.7	101.4	0.19
B	1 913.4	88.9	0.20
C	369.6	90.0	-0.53
D	320.5	100.3	-0.12

*¹(昼間人口÷夜間人口)×100 *²2010～2015年の年平均
 (「データでみる県勢2017」などから作成)

表2 きゅうりの出荷状況(2019年)

県	月・1kgの価格(円)					
	1月	2月	3月	4月	5月	6月
宮崎	○	○				
X						
県	月・1kgの価格(円)					
	7月	8月	9月	10月	11月	12月
宮崎					○	○
X	○	○	○			

※○は、その県の出荷量が総出荷量の20%以上を占める月。
 (「東京都中央卸売市場 市場統計情報」から作成)

図1 工業地の地価推移

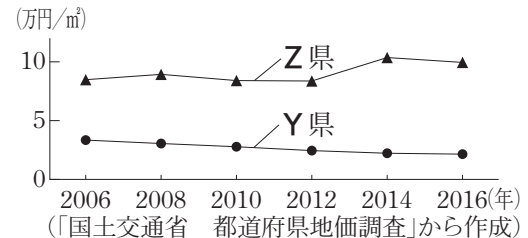


図2 産業別の工場敷地面積(2016年の平均値)

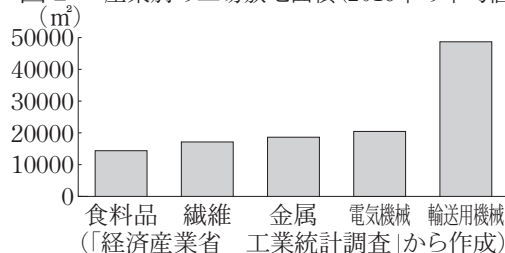


表3 *輸送用機械の出荷額に関する統計

項目 県	出荷額と工業製品総出荷額に占める割合		割合の 増減
	2006年	2016年	
Y	24 197億円(30.9%)	35 832億円(40.8%)	+9.9
Z	42 838億円(21.2%)	38 984億円(23.7%)	+2.5

*乗用車やトラックなど (「日本国勢図会2019/20年版」などから作成)

3 次のカードは、各時代の特色について、生徒が作成したものの一部である。これらと略年表、資料、図、写

略年表 西暦	200	400	600	800	1000	1200	1400	1600	1800	
時代	古代								A	近世
	弥生	B	飛鳥	C	平安	鎌倉	室町	安土 桃山	江戸	

カード

1班 テーマ **藤原氏の政治**

貴族の③藤原氏が勢力を伸ばし、朝廷の実権を握った。

図1 *公ぎょうの数の推移

年	藤原氏 (人)	他氏 (人)
876	5	15
969	15	10
1017	25	5
1042	25	5

*律令制における地位の高い役職
〔公卿補任年表〕から作成

2班 テーマ **武家政治の始まり**

鎌倉幕府は本格的な武士の政権である。承久の乱を経て、幕府の支配はより強くなっていった。

幕府の仕組み (承久の乱後)

```

    將軍 - ⑥ 執権
    |
    |-----侍所
    |-----政所
    |-----問注所
    |
    |----- W
    
```

3班 テーマ **鎖国と対外政策**

江戸幕府は、キリスト教の信仰や海外との行き来を禁じ、貿易を制限した。

鎖国下の窓口

	相手国 (民族)
松前藩	アイヌ民族
X	③ 朝鮮
長崎	中国, オランダ
薩摩藩	Y

- (1) 略年表のAにあてはまる語を書きなさい。
- (2) 略年表のBの時代から作られるようになったものを、資料1から一つ選んで記号を書きなさい。
- (3) 略年表のCの時代に作られた書物について、資料2の あ と い にあてはまる語を、それぞれ一つずつ選んで記号を書きなさい。

資料1

ア 風土記 イ 古事記 ウ 万葉集 エ 古今和歌集

- (4) 1班のカードの下線部③について、図1のVの時期を中心に藤原氏が行った代表的なことを、次の二つの語を用いて書きなさい。〔娘 子〕
- (5) 2班のカードの下線部⑥の地位を代々独占した氏の名称を書きなさい。また、Wにあてはまるものを、一つ選んで記号を書きなさい。

資料2

ア 六波羅探題
守護
地頭 イ 大宰府
国-郡-里 ウ 鎌倉府
守護-地頭

< あ ・日本書紀 >
神話や国の成り立ちなどを記した歴史書

< い >
天皇や貴族、民衆の歌を広く収めた和歌集

- (6) 3班のカードに関連した問題である。
- ① X と Y にあてはまる語の正しい組み合わせを、一つ選んで記号を書きなさい。
- ア X 長州藩 Y シャム イ X 長州藩 Y 琉球王国
ウ X 対馬藩 Y シャム エ X 対馬藩 Y 琉球王国

図3 江戸時代の朝鮮通信使

- ② 下線部③との外交について、図3の使節は、主にどのようなときに派遣されたか、次の語を用いて書きなさい。〔将軍〕

写真を見て、(I)～(II)の問いに答えなさい。

1860	1880	1900	1920	1940	1960	1980
近世		近代			現代	
江戸	D			大正	昭和	

4班 テーマ **条約改正への歩み**

ノルマントン号事件において、
④イギリス人船長に対して軽い罰しか与えられなかったため、条約改正への世論が高まった。
事件を描いた絵

5班 テーマ **国際社会への復帰**

第二次世界大戦後、西側諸国を中心に講和条約を結び、独立を回復した。
新聞の見出しにみる戦後の外交

講和条約ここに調印
四十九ヵ国が参加

↓

Z

↓

日本、正式に国連へ加盟
総会、一致で可決

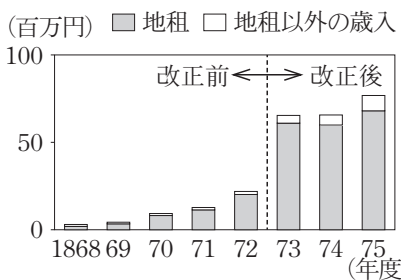
6班 テーマ **わが国の経済成長**

⑥経済がさらに発展するとともに、社会問題も生まれた。

図2 製造品出荷額と工場数の推移

⑥製造品出荷額と工場数の推移 (兆円) (万か所)
1952 60 70(年)
四大公害病訴訟が起こる
〔数字で見る日本の100年〕から作成

図4 歳入に占める地租の推移 (百万円) ■地租 □地租以外の歳入



(「明治以降本邦主要経済統計」から作成)

資料3

テーマ **第一次世界大戦**

ヨーロッパでは、国力を使い果たす総力戦となり、その後の世界に大きな影響をもたらした。

写真 高度経済成長期の四日市コンビナート

(7) 図4は、略年表のDの時代に行われたある改正の前後の推移を示している。改正の内容を、地租の納入者と納入方法を明らかにして書きなさい。

(8) 次は、4班のカードの下線部④の理由について生徒がまとめたものである。うにあてはまる語を書きなさい。

わが国がイギリスに対して、う権を認めていたから。

(9) 資料3は、略年表の大正時代について、新たに先生が提示したカードである。文中の下線部の具体的な内容を、二つ選んで記号を書きなさい。

- | | |
|-------------|--------------------|
| ア アメリカが独立した | イ アフリカの植民地化が始まった |
| ウ 国際連盟が発足した | エ ドイツでワイマール憲法が成立した |

(10) 5班のカードのZにあてはまる新聞の見出しを、一つ選んで記号を書きなさい。

- | | |
|-------------------------|------------------------------|
| ア 日中共存へ新時代
平和友好条約に調印 | イ 日ソ共同宣言、調印終了
十一年の戦争状態終結へ |
| ウ 沖縄 日本に帰る
基地大部分残し | エ 東京オリンピック開く
94国が堂々入場 |

(II) 6班のカードの下線部⑥について、次は、図2と写真をもとにまとめたものである。えとおにあてはまる内容を、それぞれ書きなさい。

高度経済成長期において、わが国では、えことにより、社会問題としておした。

4 次は、それぞれのテーマについて、生徒が調べたことをまとめたものの一部である。これらと資料、図を見て、(1)～(9)の問いに答えなさい。



テーマ **わが国の民主政治**

- ◇ **㉑**日本国憲法では、**㉒**選挙における四つの原則を保障している。
- ◇ 全国を複数の選挙区に分けて行う選挙では **㉓**さまざまな問題が生じている。

資料1 明治時代と現在の投票用紙の比較

明治時代 (第1回衆院選)	現代 (第48回衆院選)
投票者の氏名と住所を記入する欄	
候補者の氏名を記入する欄	

※上の図は、投票用紙を模式的に示したものである。

資料2 新聞の見出し(2014年11月27日付け)

参院選 「違憲状態」

昨年4.77倍 最高裁2度連続

資料3 議員一人あたりの有権者数の比較

最も多い選挙区		最も少ない選挙区	
選挙区	有権者数(人)	選挙区	有権者数(人)
北海道	1 149 739	鳥取県	241 096

(総務省資料から作成)



テーマ **人権の保障**

- ◇ 憲法で保障されている人権は、**㉔**公共の福祉による制限を受ける場合がある。
- ◇ **㉕**情報通信技術の発達などにより、憲法に直接規定されていない**㉖**「新しい人権」がより注目されるようになっている。

資料4 公務員の権利の制限

	全体の奉仕者である公務員は、その職務の公共性から、ストライキが禁止されている。
--	---

資料5 SNSについての祖父と孫の会話

	祖父：友達から許可を得ないでSNSに写真を載せちゃだめだよ。 孫：えっ、どうして？ 祖父：その人を特定できる写真の公開は、肖像権の侵害につながるし、本人の同意を得ない個人情報の公開は、 う の侵害にあたるからだよ。
--	--

(1) 下線部**㉑**の三つの基本原理のうち、国民が政治の決定権をもつことを定めた基本原理を書きなさい。

(2) 下線部**㉒**のうち、資料1の投票用紙の変化はどの原則を反映したのか、一つ選んで記号を書きなさい。

- ア** 直接選挙 **イ** 秘密選挙
- ウ** 平等選挙 **エ** 普通選挙

(3) 次は、下線部**㉓**について、同一の参議院議員選挙に関連した資料2と資料3をもとに、生徒が考えたことをまとめたものである。

最高裁判所が「違憲状態」と判断した理由は、選挙区によって**あ**があり、憲法に定める**い**と考えられるからである。

① **あ**にあてはまる内容を、次の語を用いて簡潔に書きなさい。〔価値〕

② **い**にあてはまる内容を、次の語を用いて簡潔に書きなさい。〔法〕

(4) 下線部**㉔**のうち、資料4で制限されている権利を、一つ選んで記号を書きなさい。

- ア** 団体行動権 **イ** 思想・良心の自由
- ウ** 請願権 **エ** 身体の自由

(5) 下線部**㉕**の略称を、アルファベットで書きなさい。

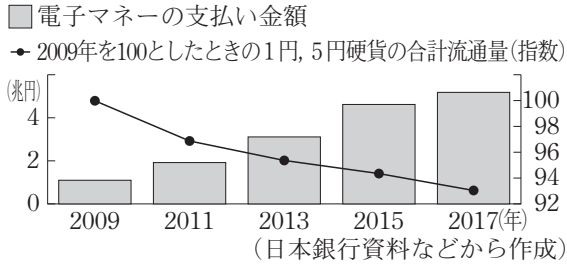
(6) 下線部**㉖**のうち、資料5の**う**にあてはまる語を書きなさい。



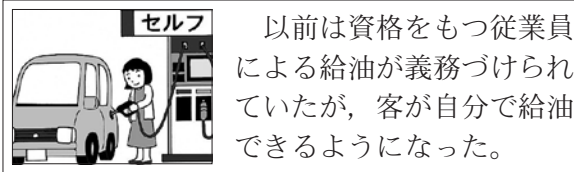
テーマ 消費生活と経済

- ◇ ㉑ 電子マネーによる支払いなど、支払い方法が多様化している。
- ◇ ㉒ 行政改革が進められることによって、消費生活も変わってきている。

図1 電子マネーの支払い金額と硬貨の流通量の変化



資料6 セルフ式ガソリンスタンドでの給油



テーマ 地球環境保全の取り組み

- ◇ 京都議定書をきっかけに、㉑ 先進国に温室効果ガスの削減目標が課せられた。
- ◇ 国際連合の総会で、「持続可能な開発目標 (SDGs)」が採択され、2030年までに達成すべき17の目標が設定された。わが国も推進本部を設置して㉒ エネルギー政策や環境保全などに取り組んでいる。

図2 温室効果ガスの累積排出量の割合 (1850~2005年)

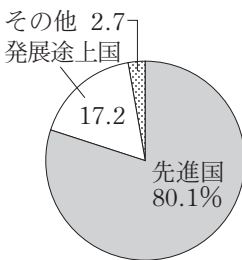


図3 わが国の電源構成の現状と目標

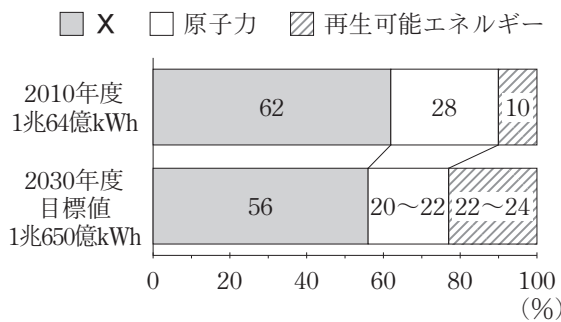
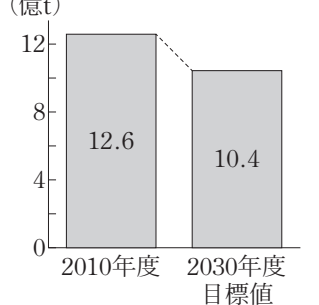


図4 わが国の温室効果ガス排出量の現状と目標 (億t)



(7) 次は、下線部㉑について、図1をもとに生徒がまとめたものである。[え]にはあてはまる内容を、[お]にはあてはまる語を書きなさい。

電子マネーの利用が増えているが、1円硬貨や5円硬貨の [え] ことが分かる。電子マネーは買い物するとき、[お] を使用せずに支払いができる便利さがあるので、これらの関係性について調べたいと思う。

(8) 下線部㉒について、資料6の内容が認められるようになった根拠としてあてはまるものを、一つ選んで記号を書きなさい。

- ア 公共サービスの提供
- イ 社会保障の充実
- ウ 社会資本の整備
- エ 規制緩和の推進

(9) 地球環境保全の取り組みに関連した問題である。

- ① 下線部㉑の理由を図2から読みとり、簡潔に書きなさい。
- ② 図3のXにあてはまる、生物の遺がいが地中に埋もれ、長い年月を経てできた燃料の総称を書きなさい。
- ③ 下線部㉒の内容を、図3と図4から読みとれることに触れながら、解答欄にしたがって書きなさい。