

平成26年度学力検査問題

社 会

(5 時間目 50分)

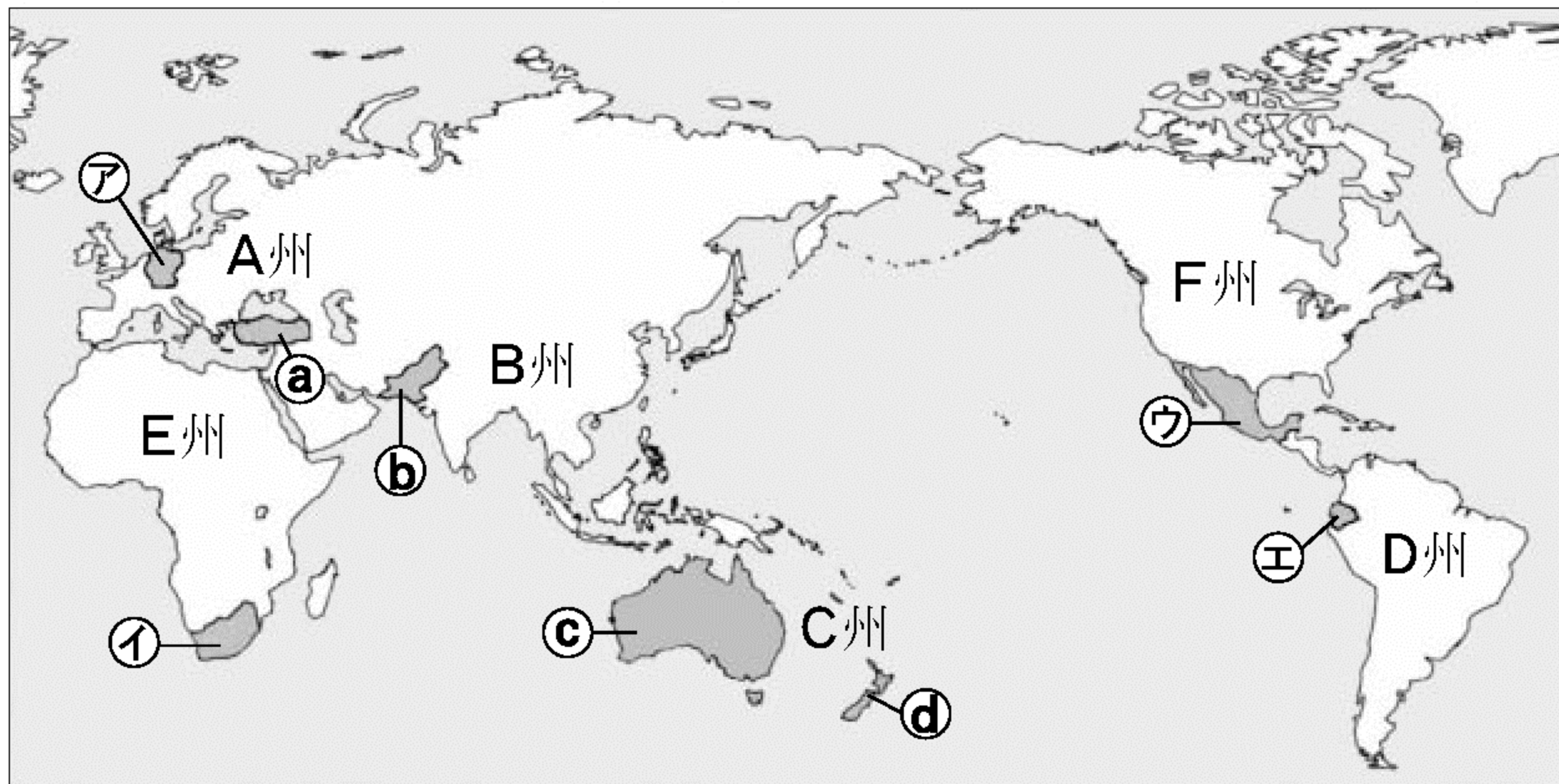
注 意

- 1 問題用紙と解答用紙の両方の決められた欄に，受検番号と氏名を記入しなさい。
- 2 問題用紙は開始の合図があるまで開いてはいけません。
- 3 問題は1 ページから6 ページまであり，これとは別に解答用紙が1 枚あります。
- 4 答えは，すべて解答用紙に記入しなさい。

受検番号		氏 名	
------	--	-----	--

1 世界の六つの州に関する地図と図や表を見て、(1)～(5)の問いに答えなさい。

地図



※ロシア連邦は、A州に位置づけている。

表 地図のA～D州の比較

州	*65歳以上人口の割合の推移(%)		森林の総面積 (千ha)	森林の 種類別割合
	1990年	2010年		
㉑	9.1	10.7	191 384	W
㉒	5.0	6.7	592 512	X
㉓	5.0	7.1	864 351	Y
㉔	12.7	16.2	1 005 001	Z

*各州の全人口に占める割合。「世界国勢図会」2012/13年版などから作成

図1

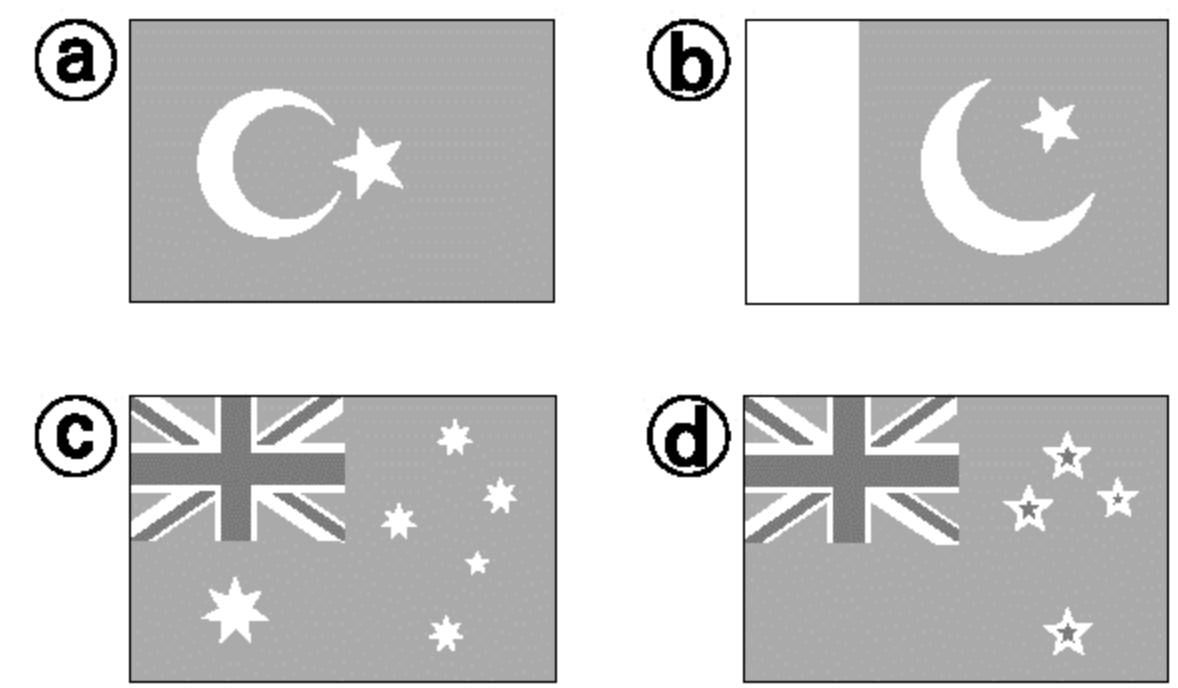
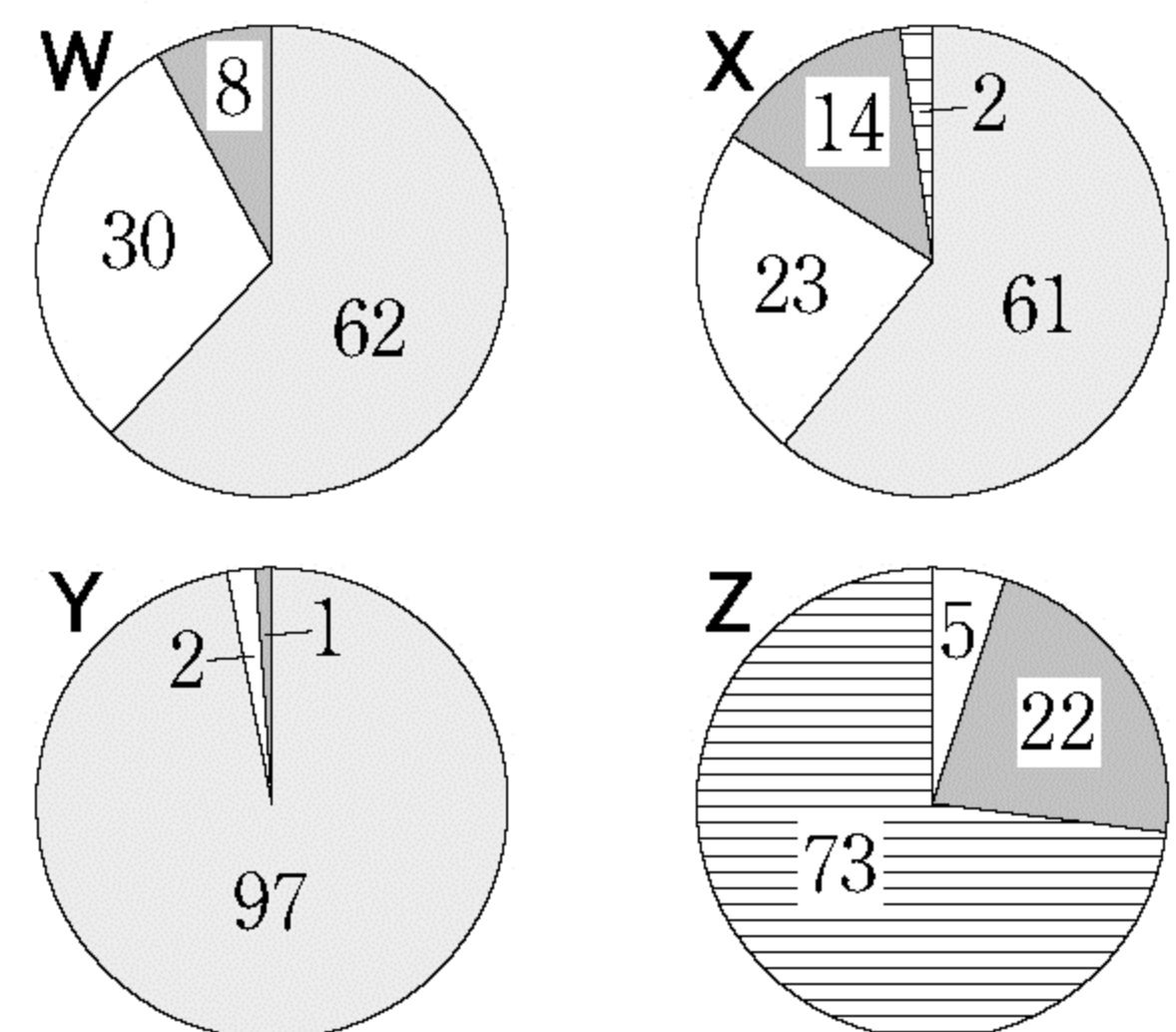


図2 森林の種類別割合(%)



■ 熱帯林 ■ 温带林
□ 亜熱帯林 ■ 北方林

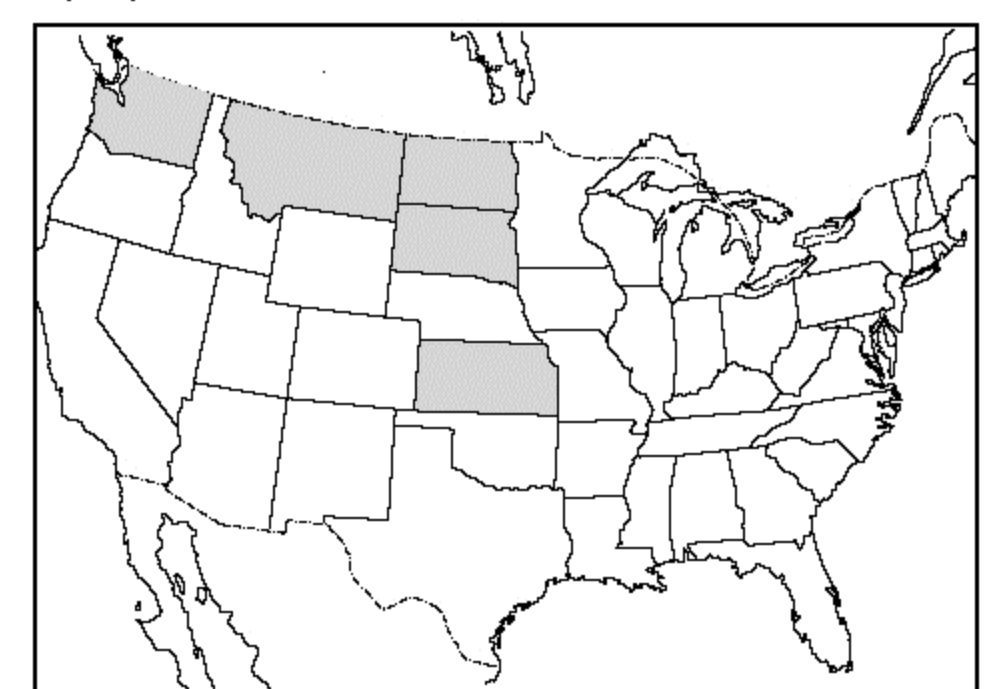
(「世界統計白書」2013年版から作成)

- 地図の㉑～㉔の国から、領土内を赤道が通っている国を、一つ選んで記号を書きなさい。
- 図1は、それぞれ地図の㉑～㉔の国旗である。㉑国と㉒国において、最も信者が多い宗教の名称を書きなさい。また、㉓、㉔の二つの国を植民地にしていた国の国名を書きなさい。
- 表の㉑～㉔から、地図のC州とD州を示すものを、一つずつ選んで記号を書きなさい。なお、表のW～Zは、それぞれ図2のW～Zのグラフを表している。
- 地図のE州の特色として最も適切なものを、一つ選んで記号を書きなさい。
 ア ASEAN加盟国の工業化と経済協力 イ 海洋資源を生かした観光産業による発展
 ウ 進む統合とEU内部の地域格差の拡大 エ 豊富な鉱産資源にたよる不安定な経済
- 地図のF州に位置するアメリカの農業に関連した問題である。

- 図3の○は、アメリカにおいて、ある農畜産物の生産額が多い上位5州を表している。この農畜産物として適切なものを、一つ選んで記号を書きなさい。

ア 小麦 イ 牛肉 ウ 綿花 エ どうもろこし

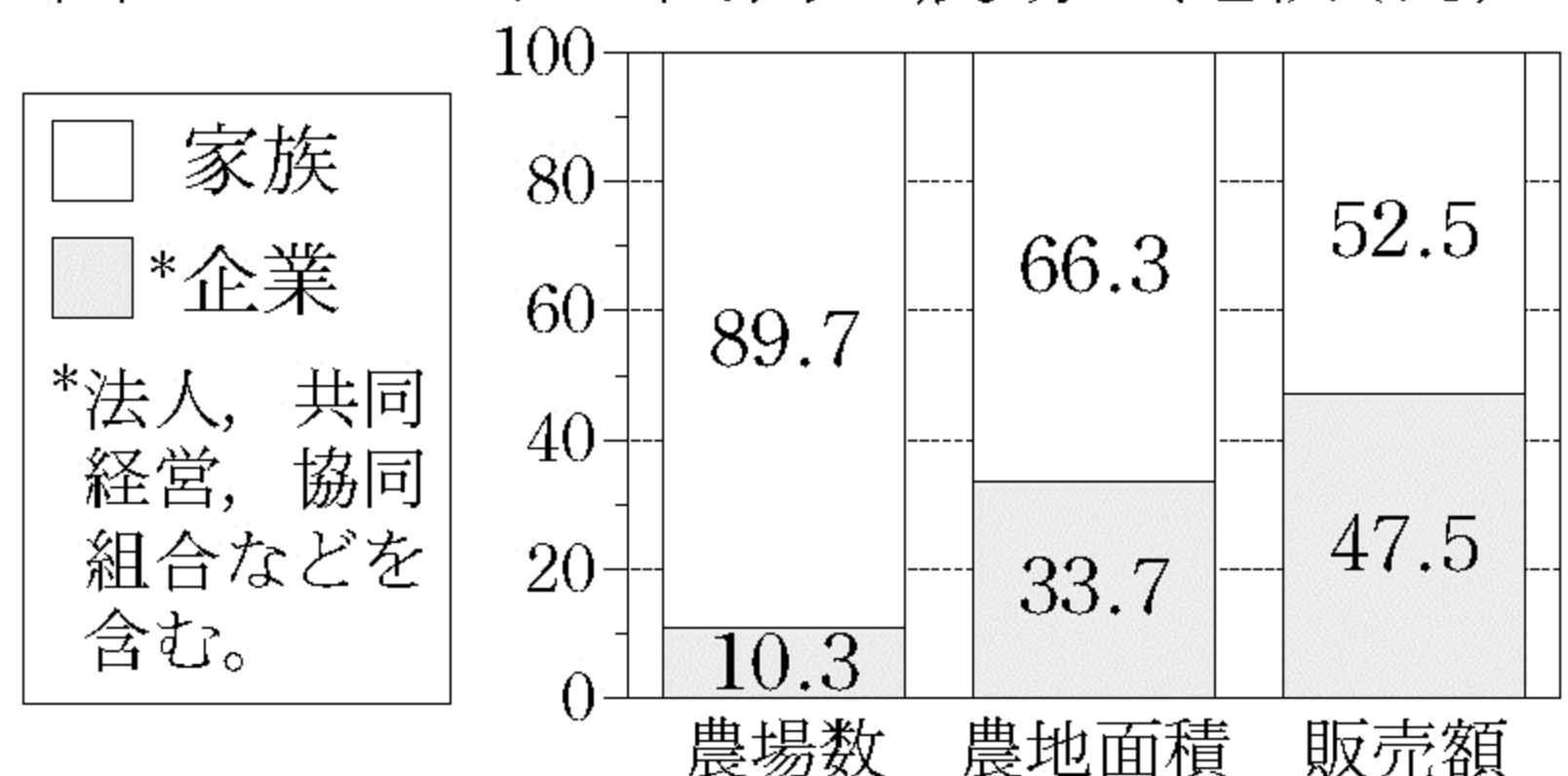
図3



- 図4は、農場を経営形態によって二つに分類し、全体に占める割合を比較したものである。図4から読みとれる、企業が経営している農場の特色を、次の語を用いて書きなさい。

〔 農地面積 販売額 〕

図4 アメリカ国内の農場の比較(%)



(図3、4は「米国農務省農業統計局農業センサス」2002などから作成)

2 日本海側と太平洋側の地域に関する地図と図や表を見て、(1)と(2)の問いに答えなさい。

(1) 次は、ある生徒が地図1のIの地域について、調べた内容の一部である。

○図1には、**あ**山脈を源流とし、**い**平野を流れるW川が示されています。
 ○X湾内には、**う**海流が流れ込んでいるので、暖流を回遊する魚も集まります。
 ○図2で、W川を最も適切に表しているのは**A**です。また、この地域の地形の特色は、リアス海岸がみられる地域と同じように、山地が**B**ことだと分かります。

地図1

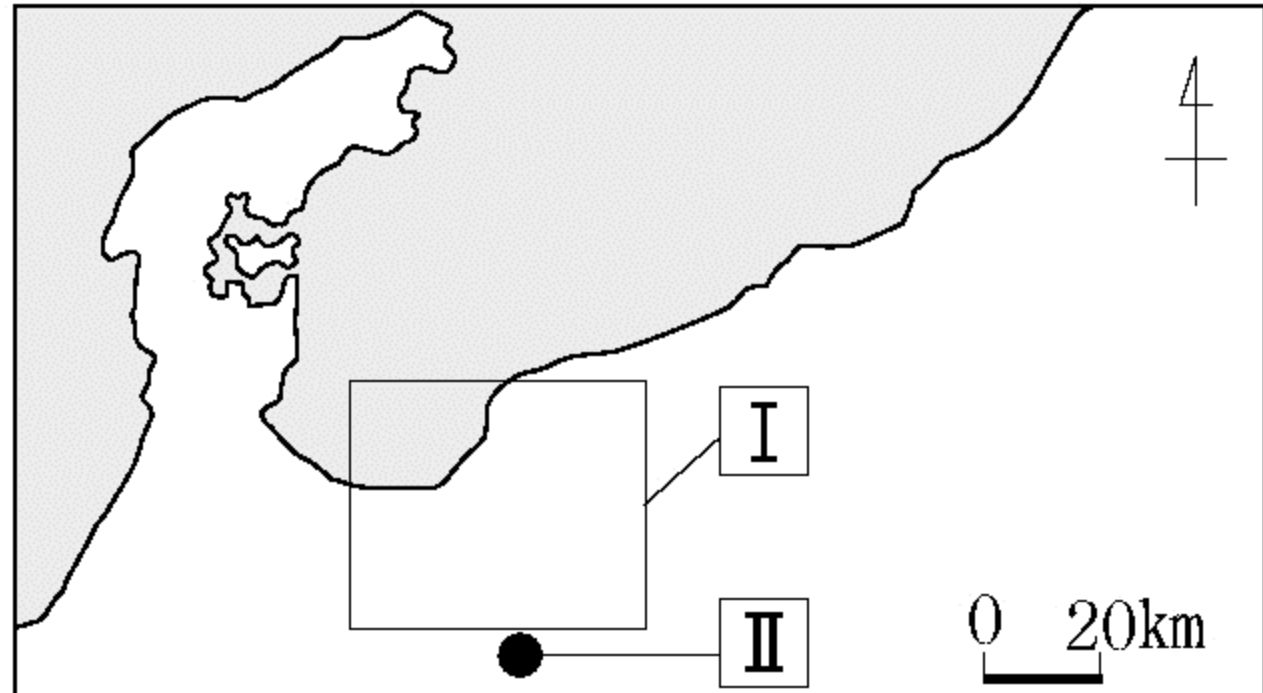
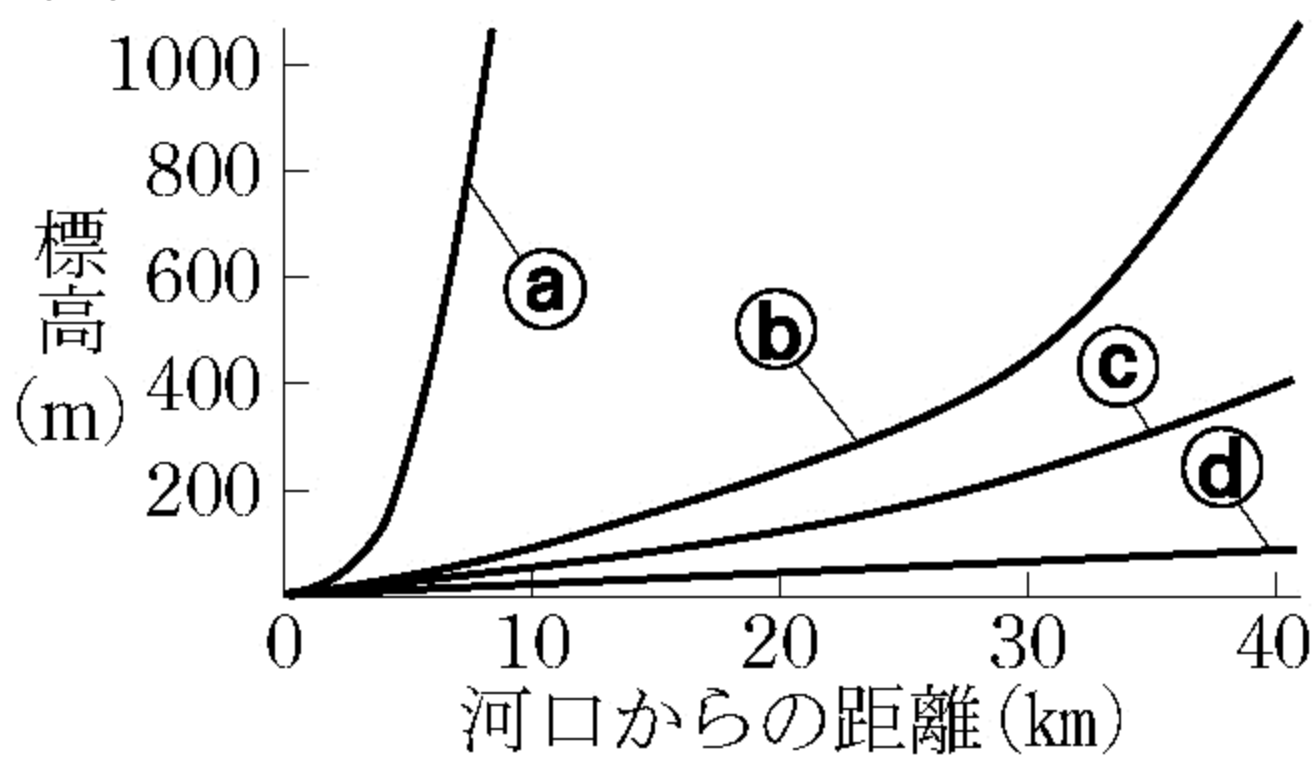


図1 地図1のIの地域をIIの地点の上空から見た模式図

図2



※数値は、その地点の標高を示す。

- ① **あ**と**い**にあてはまるものを、一つずつ選んで記号を書きなさい。
 ア 赤石 イ 奥羽 ウ 飛騨 エ 日高 オ 石狩 カ 庄内 キ 富山 ク 静岡
- ② **う**にあてはまる海流の名称を書きなさい。
- ③ **A**にあてはまるものを、図2の**a**～**d**から、一つ選んで記号を書きなさい。また、**B**に入る、図1や図2から読みとれる地形の特色を書きなさい。

(2) 太平洋側の地域に位置する地図2の4港に関連した問題である。

地図2

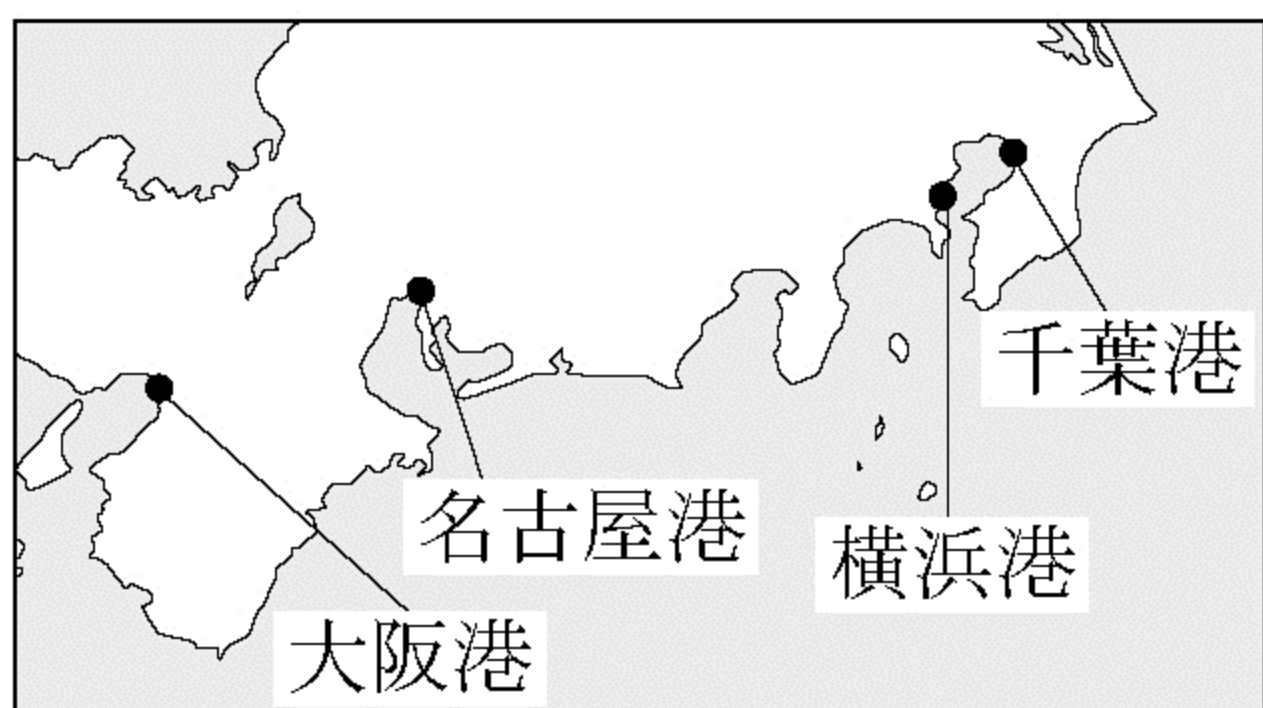
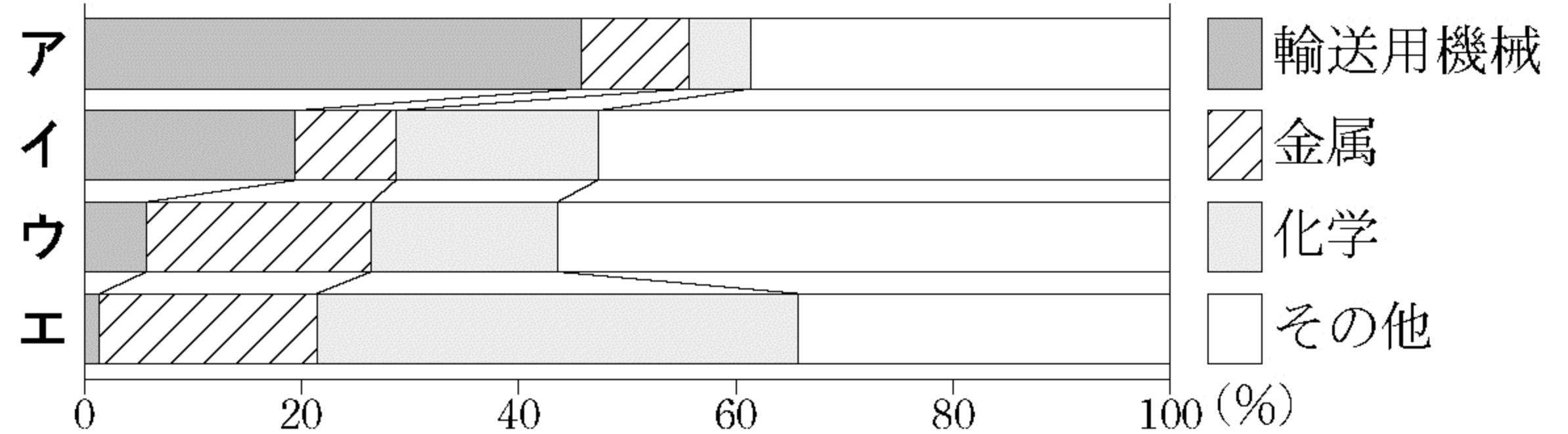


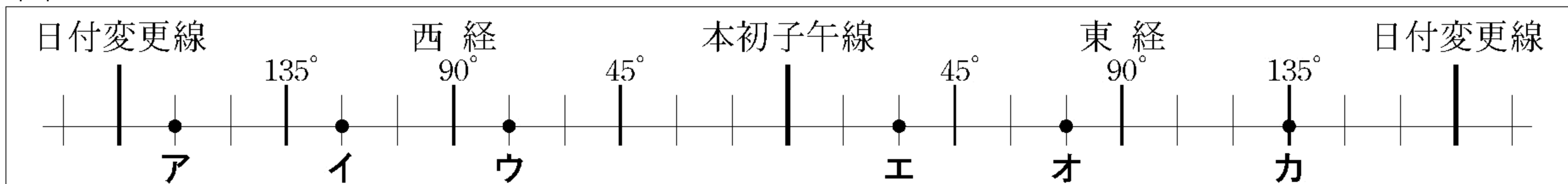
図3 工業地帯・地域の出荷額割合の比較



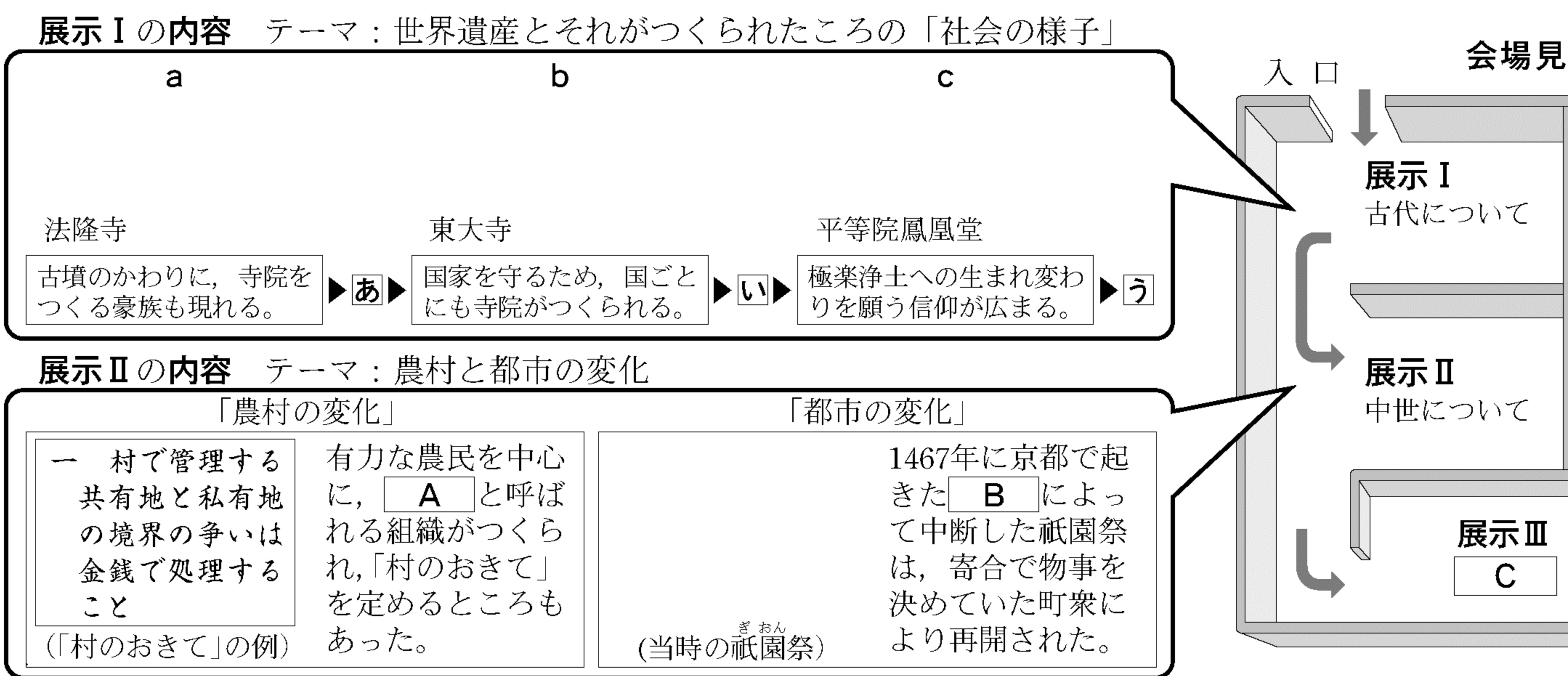
(図3, 表は「日本国勢図会」2011/12年版などから作成)

- ① 地図2の4港は、それぞれ図3の**ア**～**エ**の工業地帯・地域のいずれかに位置している。名古屋港が位置しているものを、一つ選んで記号を書きなさい。
- ② 千葉港が位置している工業地帯・地域では、表の**Y**を原料とする工業が盛んである。**Y**にあてはまる品目を書きなさい。
- | 年 | 1960 | 2010 |
|----|----------|----------|
| 品目 | せんい原料 | 機械類 |
| | Y | Y |
- ③ 図4は、経線を数直線で表した模式図である。横浜港とある国の**Z**港の時差は17時間である。**Z**港の位置を模式図に示すとき、適切な位置を、一つ選んで記号を書きなさい。

図4



3 古代～近代・現代について調べたことを，テーマを決めて学校祭で展示することにした。展示の内容と会場見



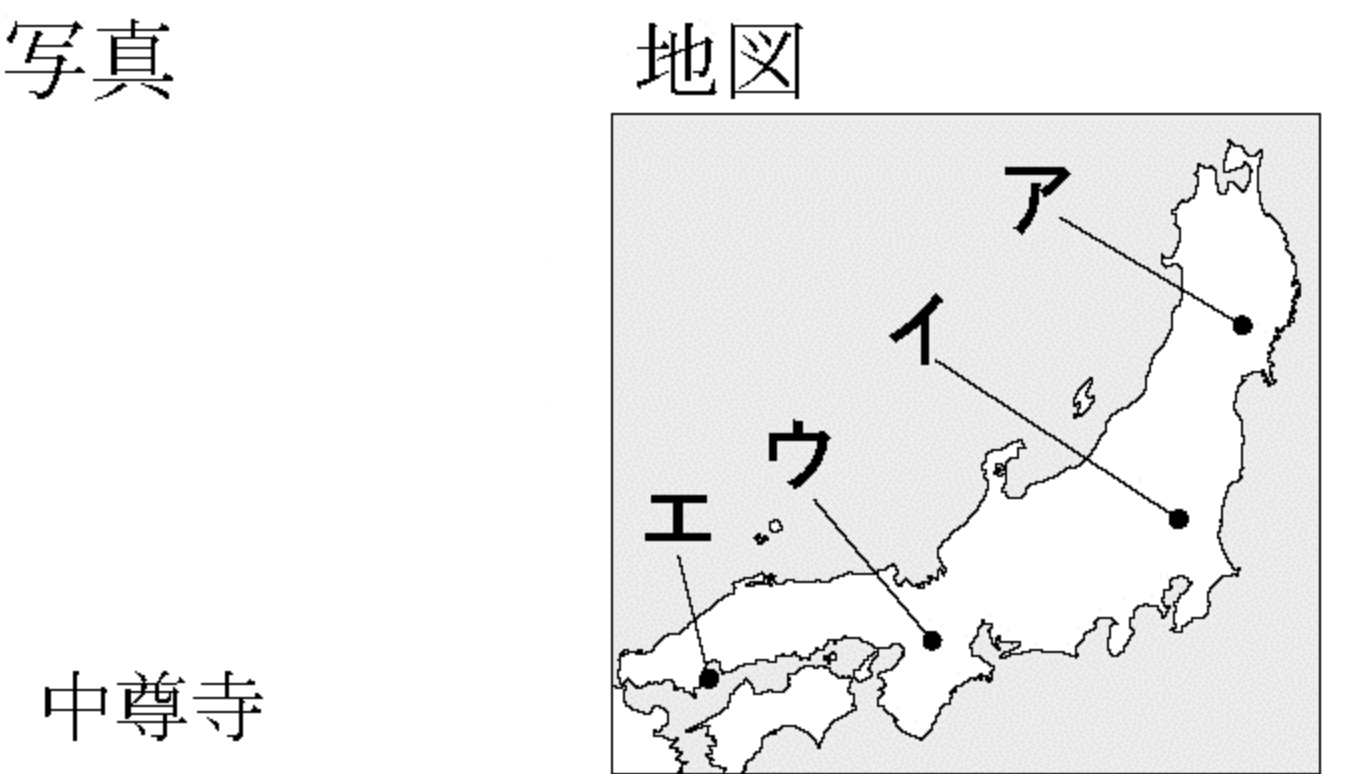
(1) 展示Ⅰの内容に関連した問題である。

① a～cをつくった人物を，一人ずつ選んで記号を書きなさい。

ア 源頼朝 イ 藤原頼通 ウ 桓武天皇 エ 聖徳太子 オ 聖武天皇

② a～cに加え展示する，右の写真の寺院がつけられた

ころと，「社会の様子」が共通しているものを，a～cから一つ選んで書きなさい。また，写真の寺院の位置を，地図の**A**～**E**から，一つ選んで記号を書きなさい。



③ 古い順に並んでいるa～cに，資料1も加え展示する。

適切な場所を，**あ**～**う**から一つ選んで記号を書きなさい。また，資料1の**X**にあてはまる人物名を書きなさい。

資料1 高野山ふじ金剛峯寺がつけられたころの「社会の様子」

唐から帰国した**X**が真言宗を開くなど，仏教に新しい動きが起こる。

(2) 展示Ⅱの内容に関連した問題である。

① **A**と**B**にあてはまる語を，それぞれ書きなさい。

② 次は，「農村の変化」と「都市の変化」から読みとったことをまとめ，展示するものである。**Y**に入る適切な内容を書きなさい。

この時代になると，一部の農村や都市では，有力な農民や町衆を中心に**Y**。

(3) 会場見取り図の展示Ⅲに関連した問題である。

① 会場見取り図の矢印は，展示Ⅰ～Ⅳを，古代から時代順に見学する順路を示している。

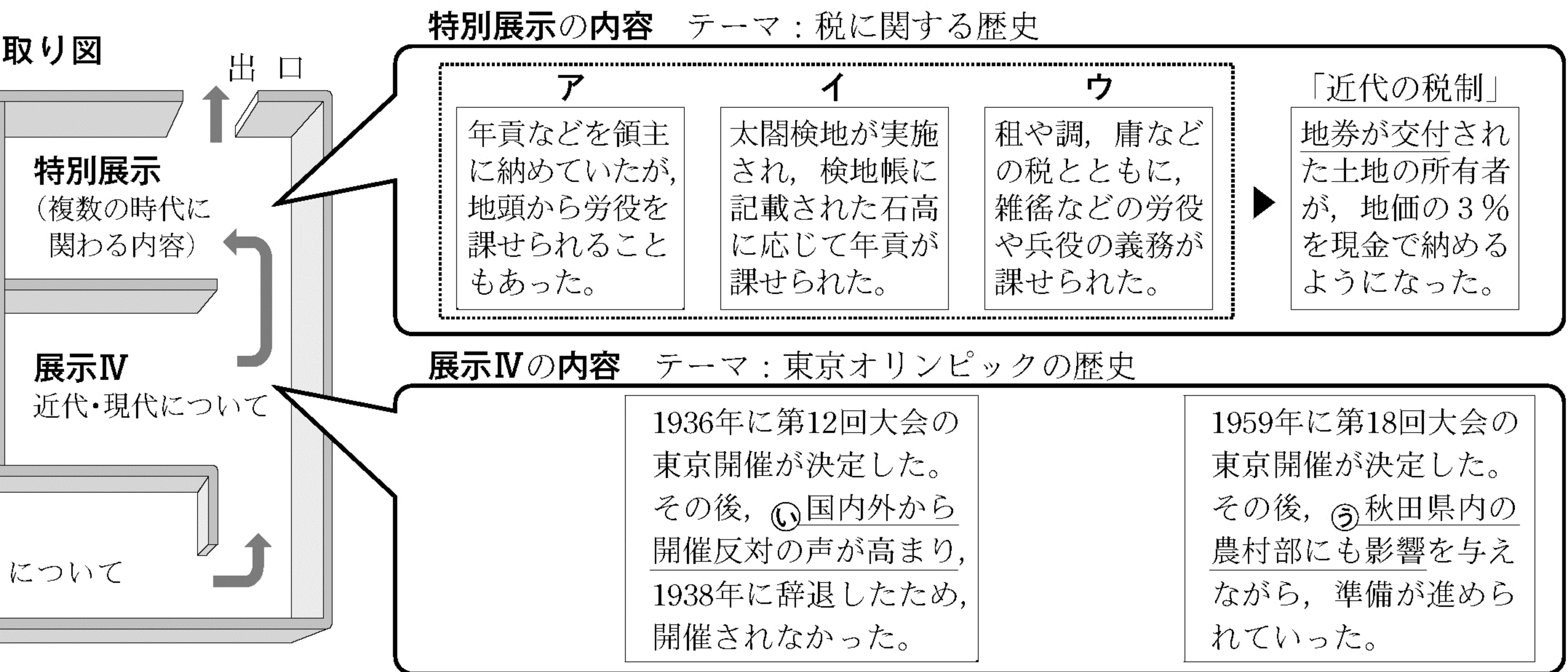
Cにあてはまる時代名を書きなさい。

② 次の**A**～**オ**は，それぞれ展示Ⅰ～Ⅳの会場のいずれかに展示するもののテーマである。

展示Ⅲに展示するもののテーマとして適切なものを，二つ選んで記号を書きなさい。

ア 自由民権運動と秋田事件 イ 律令国家と秋田城 ウ 『解体新書』と秋田らんが蘭画
エ 関ヶ原の戦いと佐竹氏の国替え オ 南北朝の争乱と秋田の武士団

取り図を見て、(1)～(5)の問いに答えなさい。



(4) 特別展示の内容に関連した問題である。

- ① ア～ウを、年代の古い順に並べ替え、記号を書きなさい。
- ② 「近代の税制」の下線部により認められた経済活動のうち、資料2の **Z** に入る内容を書きなさい。

(5) 展示Ⅳの内容に関連した問題である。

- ① 下線部㉞の西暦年は何世紀か、数字を書きなさい。
- ② 下線部㉞のきっかけとなった開催決定後の日本の対外的なできごとを、右の年表に付け加え展示する。このできごとを書きなさい。
- ③ 下線部㉟について、図1と図2から読みとれることを関連づけ、次の語を用いて書きなさい。〔労働力〕

資料2 江戸幕府が出した法令

一 豊かな農民は土地を買い取って、一層豊かになり、家計の苦しい農民は土地を売って、一層貧しくなっていくので、今後、**Z** は禁止する。

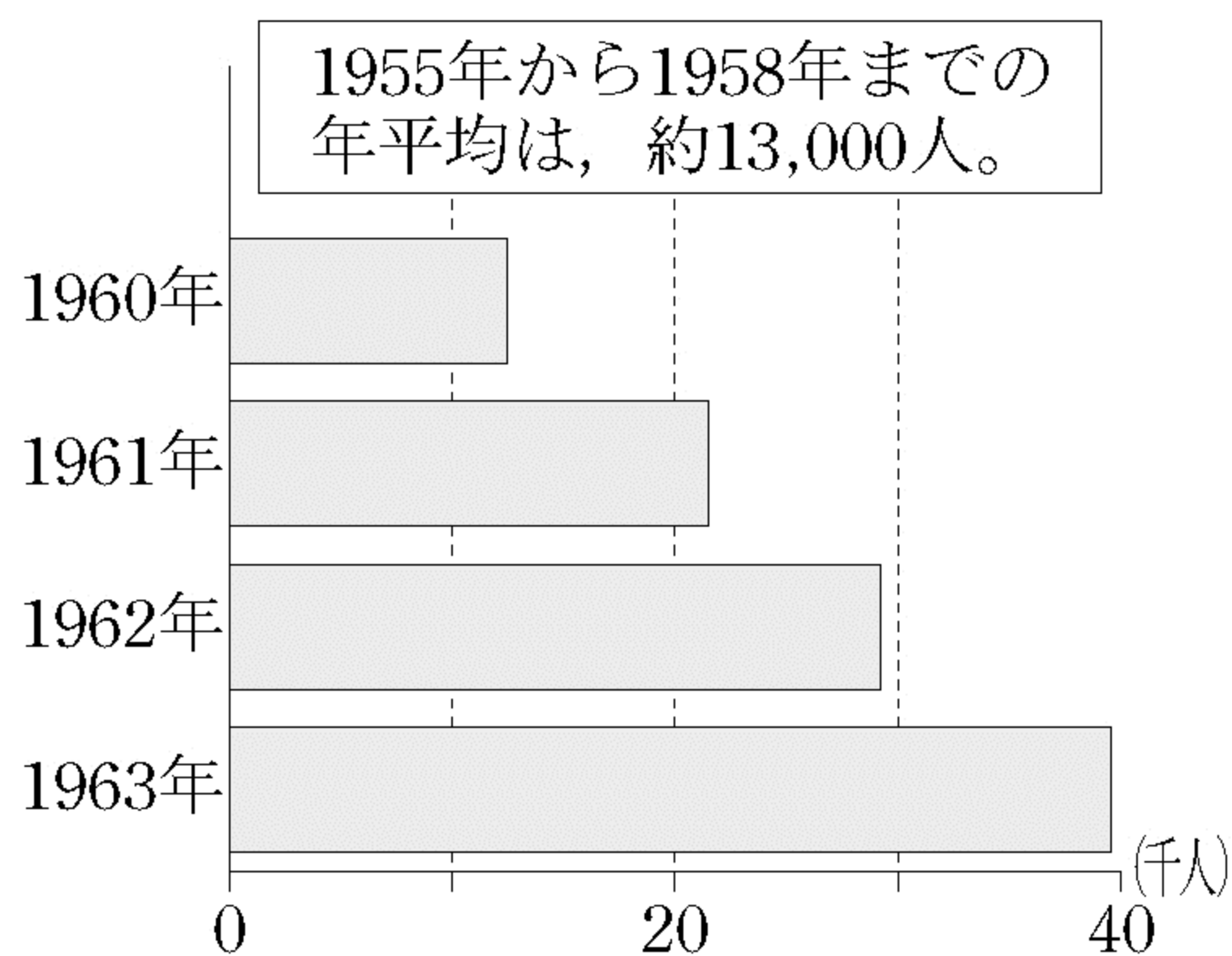
(「御触書寛保集成」から部分要約)

年表

年代	日本の主なできごと
1930	満州事変がおこる 国際連盟を脱退する 第12回大会の開催が東京に決定する 第12回大会の開催を辞退する
1940	第二次世界大戦がおこる 太平洋戦争がおこる
1950	ポツダム宣言を受諾する 高度経済成長が始まる
1960	第18回大会の開催が東京に決定する 第18回大会が東京で開催される
1970	石油危機がおこる

図1 第18回大会に向けて整備された主な施設

図2 秋田県の*出かせぎ者数の変化



*出かせぎとは、一定期間他の地域で働くこと。主に冬期間に農村から都市へ出かけ働くこと。
(「秋田県勢要覧」などから作成)

4 次の写真と図や資料を見て、(1)～(3)の問いに答えなさい。

(1) 次は、写真を見て人権について話し合った内容である。

写真 電車内の防犯カメラ

生徒A：防犯カメラで撮影することは、わたしたちの **X** の侵害になるのかな。
 生徒B：防犯カメラの目的は、より多くの人々に安心して電車を利用してもらうことかしら。
 生徒A：それは **Y** の考え方だと思うよ。でも、人権が制限されることはないのかな。
 生徒B：「国民の権利については、**Y** に反しない限り、最大の尊重を必要とする」と憲法にあることを、授業で学んだわ。
 生徒A：戦前には法律で人権を制限した例もあったと思うよ。

① **X** にあてはまるものを、一つ選んで記号を書きなさい。

ア 環境権 イ プライバシーの権利 ウ 知る権利 エ 表現の自由

② **Y** には同じ語が入る。**Y** にあてはまる語を書きなさい。

③ 内容の下線部について、普通選挙法と同じ年に成立した法律の名称を書きなさい。

(2) 裁判制度に関連した問題である。

図1 裁判の様子

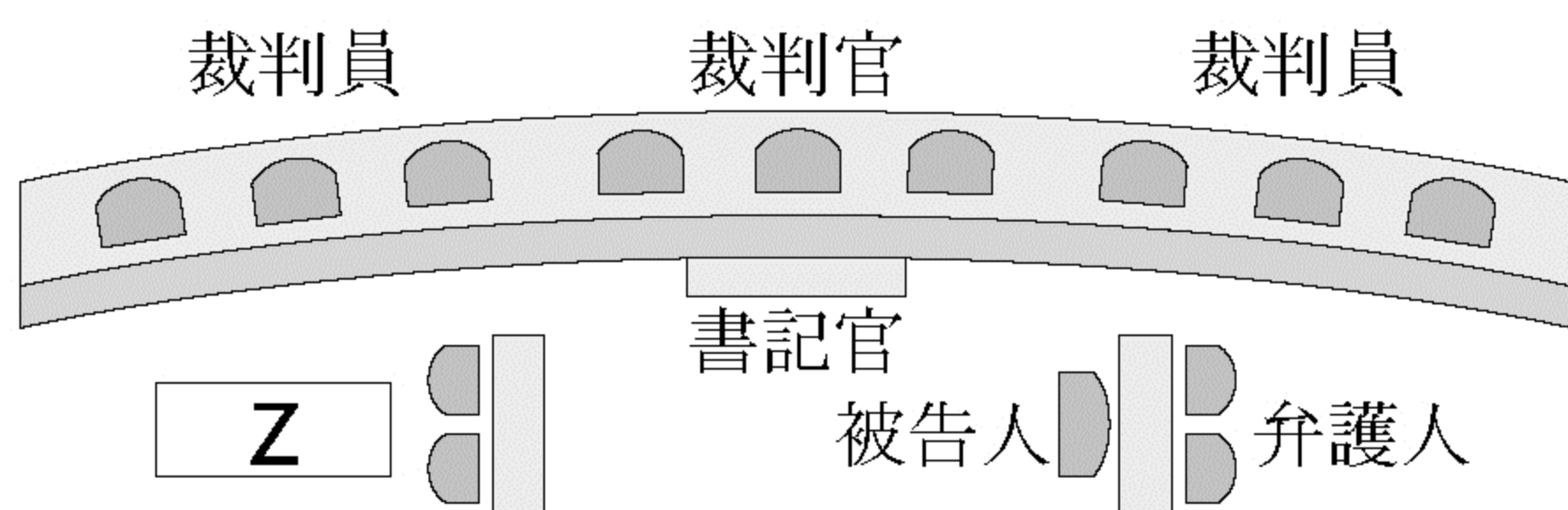
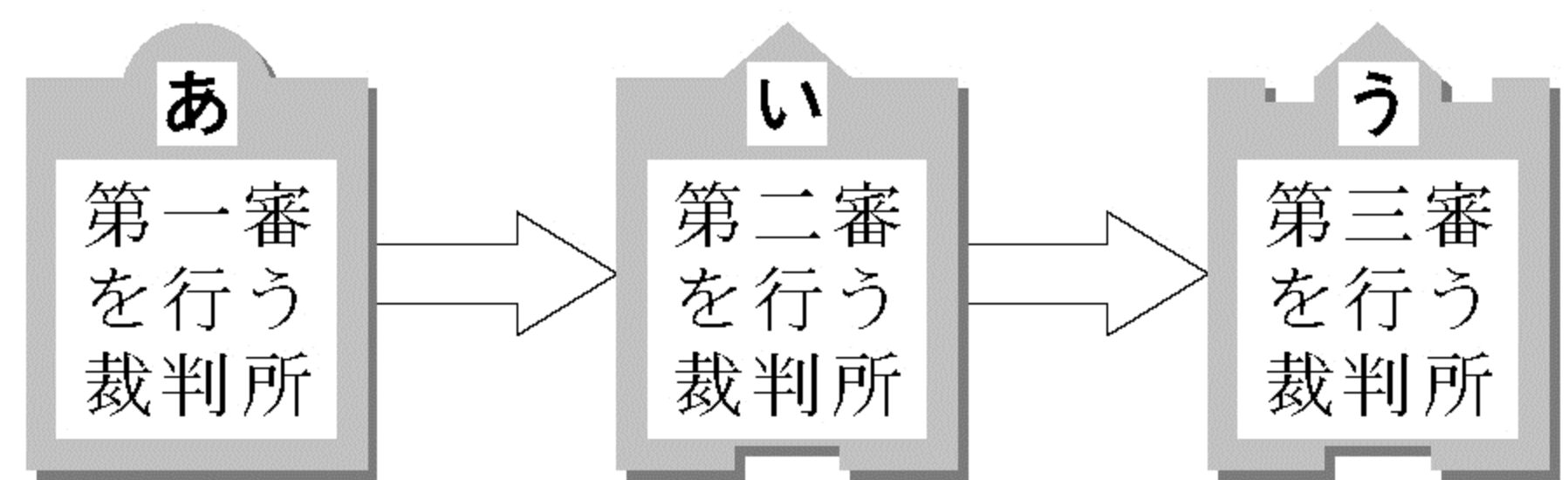


図2 裁判のしくみ



① 図1の **Z** にあてはまる語を書きなさい。

② 図1の様子がみられる裁判所を、図2のあ～うから一つ選んで記号を書きなさい。また、この裁判所での判決に納得できない場合に行う手続きを、一つ選んで記号を書きなさい。

ア 上告 イ 弾劾 ウ 起訴 エ 控訴

(3) 岐阜県高山市は、平成17年に近隣の9町村と合併し、東京都とほぼ同じ面積になった。次の資料は、高山市のまちづくり計画の一部を、二つの視点で分類したものである。

資料

視点	㉑	居住地の拡大で予想される問題への対応
計画	○旧市町村の仕事の内容や行政組織などを再編し、適正な職員数にする。 ○人口の増減を見通し、各種施設を整理したり複数の機能をもたせたりする。	㉒市内各地域を結ぶ道路網を整備する。 ㉓旧市町村役場間の情報ネットワークを整備する。

① 資料の㉑にあてはまる視点として、最も適切なものを、一つ選んで記号を書きなさい。

ア 災害に強い地域をつくる工夫 イ 高齢者が安心して暮らせる工夫
 ウ 限られた経費で成果をあげる工夫 エ 美しい景観を保全し活用する工夫

② 資料の下線部の問題が、計画㉒、㉓の実施によって、どのように改善されていくのかを、次の語を用いて解答欄にしたがって書きなさい。〔地域 同じような〕

5 次の図と表や資料を見て、(1)～(3)の問いに答えなさい。

(1) 需要・供給と価格に関連した問題である。

- ① 市場価格のうち、図1の**ア**～**ウ**のように、
 曲線が交わるときの価格の名称を書きなさい。
 ただし、**エ**～**カ**は需要曲線である。
- ② 図1を、表1の事例を用いて説明した次の
 文の**A**と**B**にあてはまるものを、図1の
ア～**カ**から一つずつ選んで記号を書きなさい。

通常、金曜日は木曜日よりも宿泊者の増加が見込まれるので、その需要曲線は、**A**になる。だから、価格は、**イ**から**B**に動く。

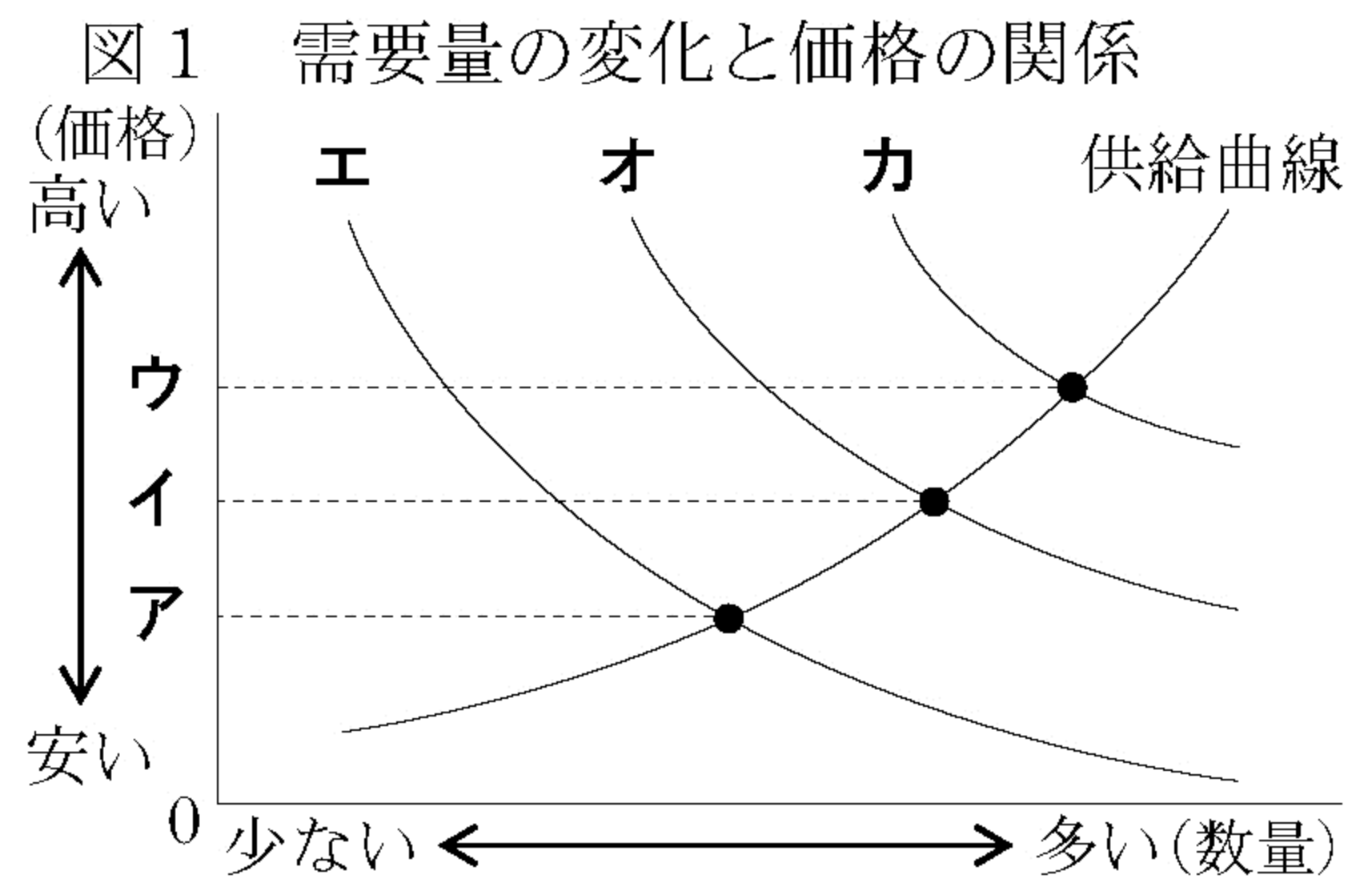


表1 あるホテルの宿泊価格

宿泊する曜日	価格(1名分)
木曜日	図1の イ
金曜日	図1の B

(2) 社会保障に関連した問題である。

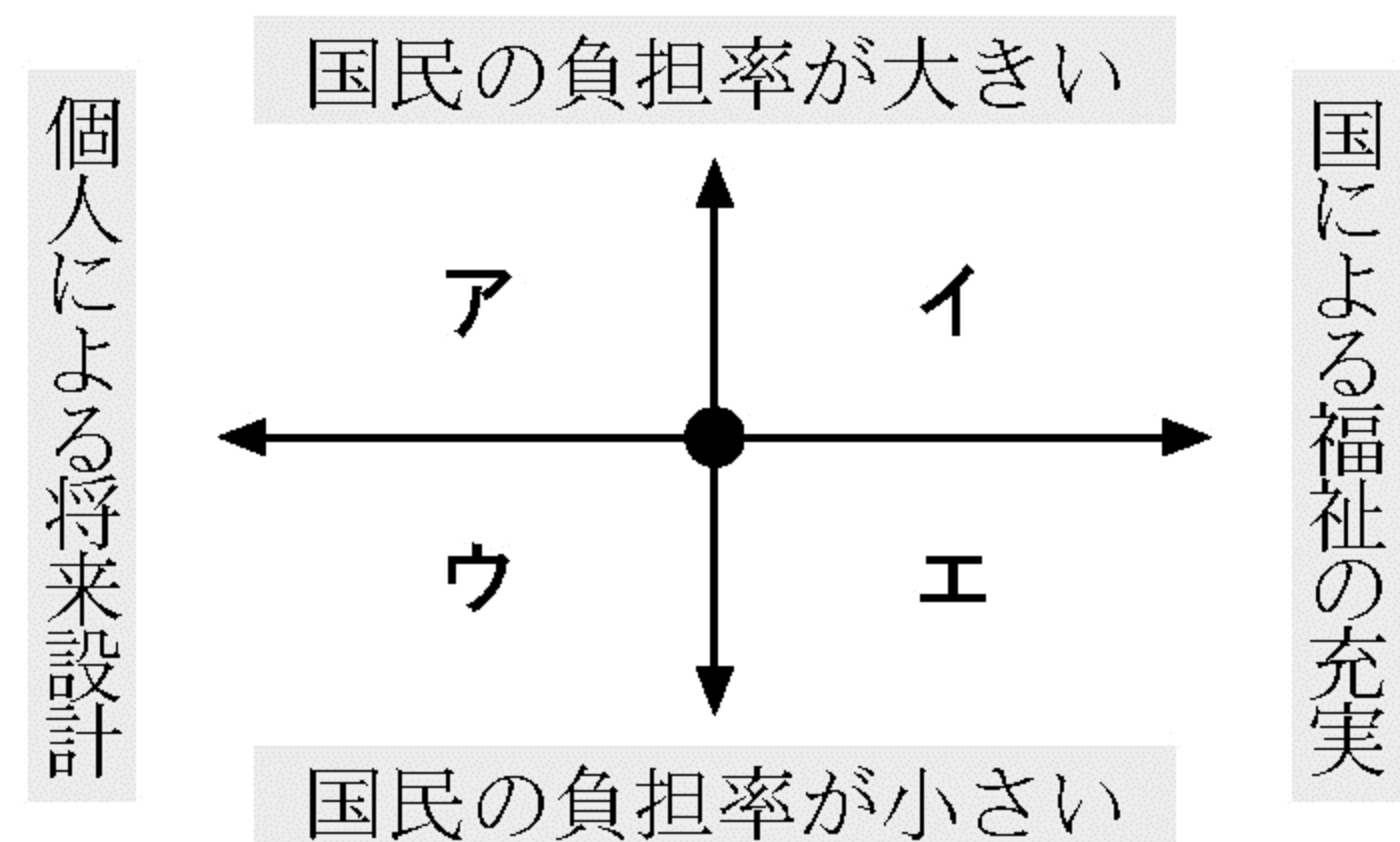
- ① 表2の日本の社会保障の内容にあてはまるものを、**二つ**選んで記号を書きなさい。
- ア** 公的扶助 **イ** 公衆衛生
ウ 科学技術振興 **エ** 平和維持活動
- ② 図2の**ア**～**エ**の区分は、社会保障の特色を表し、「●」は表2の**b**国を示している。日本の区分を、一つ選んで記号を書きなさい。
- ③ **b**国の社会保障の特色が、**イ**に区分されるための新たな政策のうち、歳入面からの政策を具体的に書きなさい。

表2 社会保障の比較(%)

	国民負担率	社会保障支出の*比率
日本	38.3	31.8
a 国	30.3	24.1
b 国	53.2	38.1
c 国	62.5	43.0

*国の歳出に占める割合。(厚生労働省資料から作成)

図2 **b**国を基準とした社会保障の比較



(3) 日本からインドへの政府開発援助(O D A)に関連した問題である。

- ① インドの位置する地域を、一つ選んで記号を書きなさい。
- ア** 東アジア **イ** 東南アジア **ウ** 南アジア **エ** 中央アジア **オ** 西アジア
- ② 資料と図3から読みとれる、援助**X**の特色と傾向について、そのねらいに触れながら、次の語を用いて書きなさい。〔**持続的**〕

資料 インドへの無償援助の例

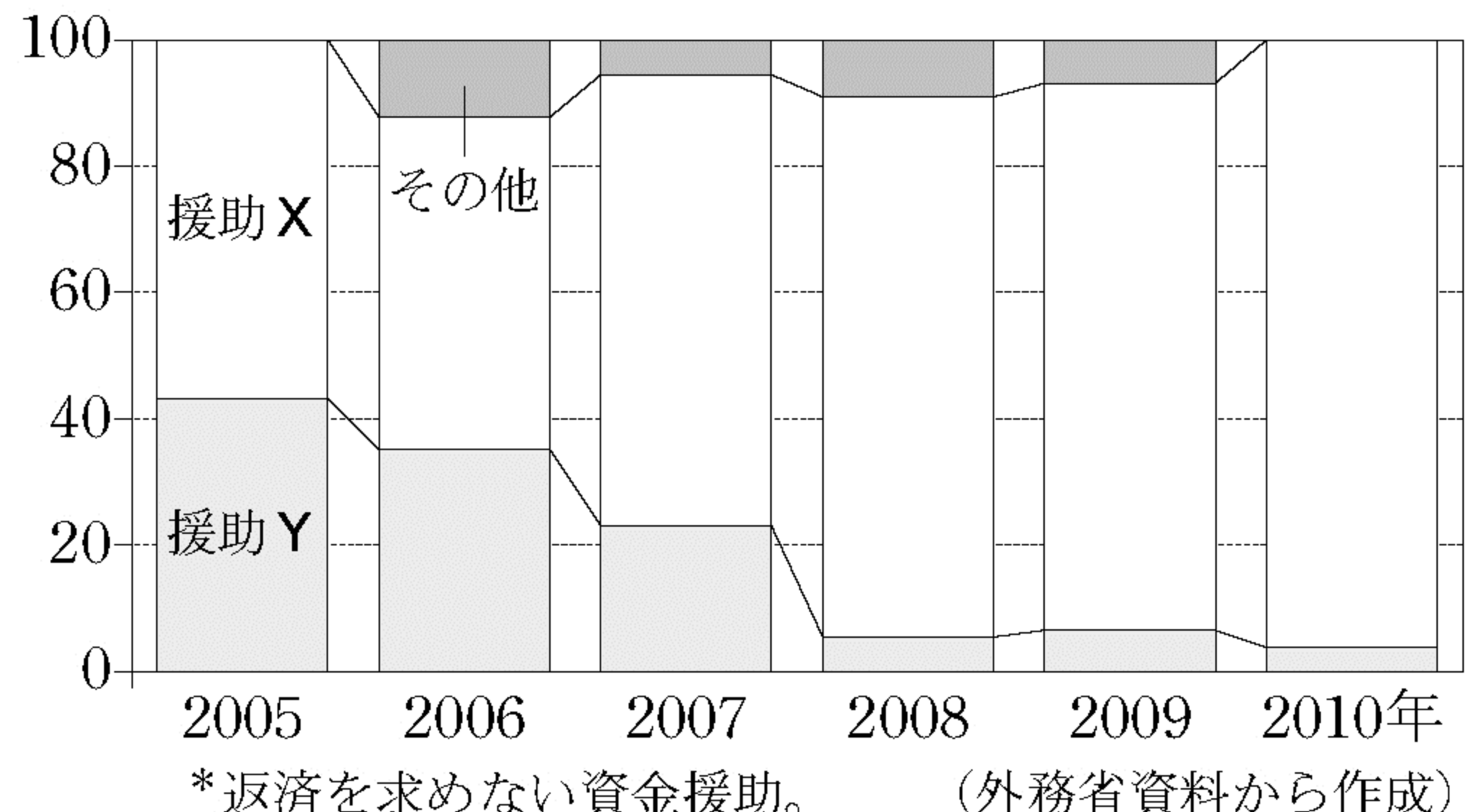
援助X

- ・現地の人たちに森林管理についての知識や技能などを指導する。
- ・一人でも農業の勉強ができるように希望者にテキストを配る。

援助Y

- ・病院や薬局などを建設し、医療品を提供する。
- ・安全な飲料水を安定して利用できるように、井戸を建設する。

図3 インドへの*無償援助の内訳(%)



*返済を求めない資金援助。(外務省資料から作成)

