

平成27年度一般選抜学力検査問題

数 学

(2 時間目 60分)

注 意

- 1 問題用紙と解答用紙の両方の決められた欄に，受検番号と氏名を記入しなさい。
- 2 問題用紙は開始の合図があるまで開いてはいけません。
- 3 問題は1 ページから9 ページまであり，これとは別に解答用紙が1 枚あります。
- 4 答えは，すべて解答用紙に記入しなさい。
- 5 問題用紙等を切り取ってはいけません。

受検番号		氏 名	
------	--	-----	--

1 次の(1)～(15)の中から、指示された8問について答えなさい。

(1) 次の①, ②を計算しなさい。

① $-3 \times (5 - 7)$

② $-3 - 5 \times 2$

(2) 方程式 $\frac{4x + 5}{3} = x$ を解きなさい。

(3) $(\sqrt{7} + 1)(\sqrt{7} - 2)$ を計算しなさい。

(4) 連立方程式 $\begin{cases} 9x - 2y = 25 \cdots\cdots\text{①} \\ 2x - y = 10 \cdots\cdots\text{②} \end{cases}$ を解きなさい。計算の過程も書きなさい。

(5) 方程式 $x^2 + ax + 8 = 0$ の解の1つが4のとき、 a の値を求めなさい。また、もう1つの解も求めなさい。計算の過程も書きなさい。

(6) 1本 a 円の鉛筆3本と b 円の筆箱1個を買ったとき、代金の合計が700円より高くなった。この数量の関係を不等式で表しなさい。

(7) $x = \frac{4}{5}$, $y = -2$ のとき、 $3(4x - y) - (2x - 5y)$ の値を求めなさい。

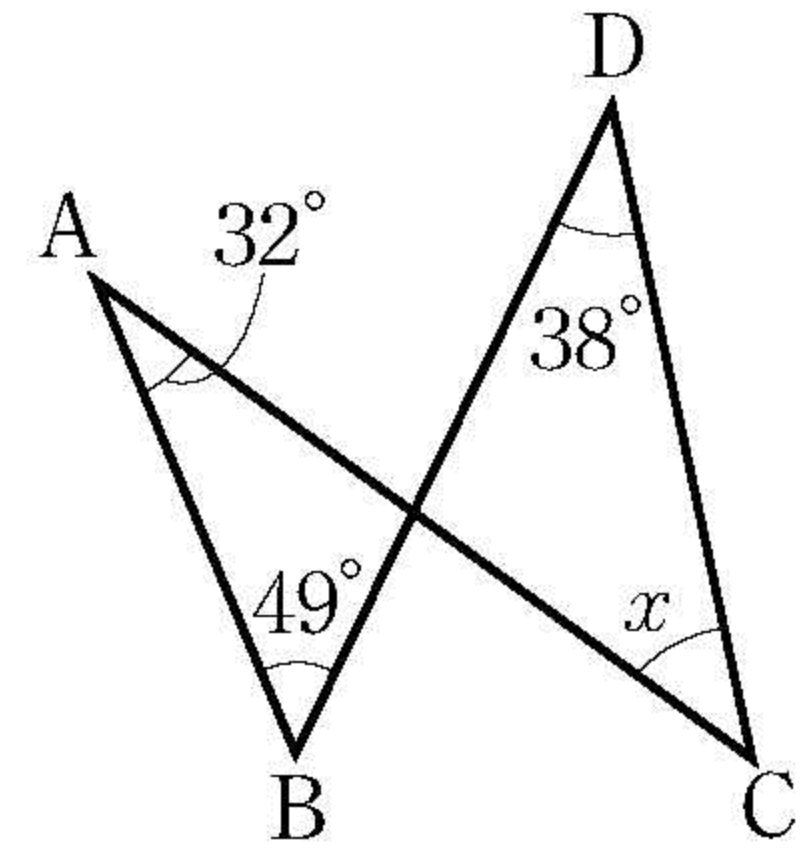
(8) y は x に反比例し、 $x = 4$ のとき、 $y = -12$ である。このとき、 y を x の式で表しなさい。

(9) 右の度数分布表は、あるサッカーチームが行った試合の得点の記録をまとめたものである。この表から試合の得点の最頻値と平均値をそれぞれ求めなさい。

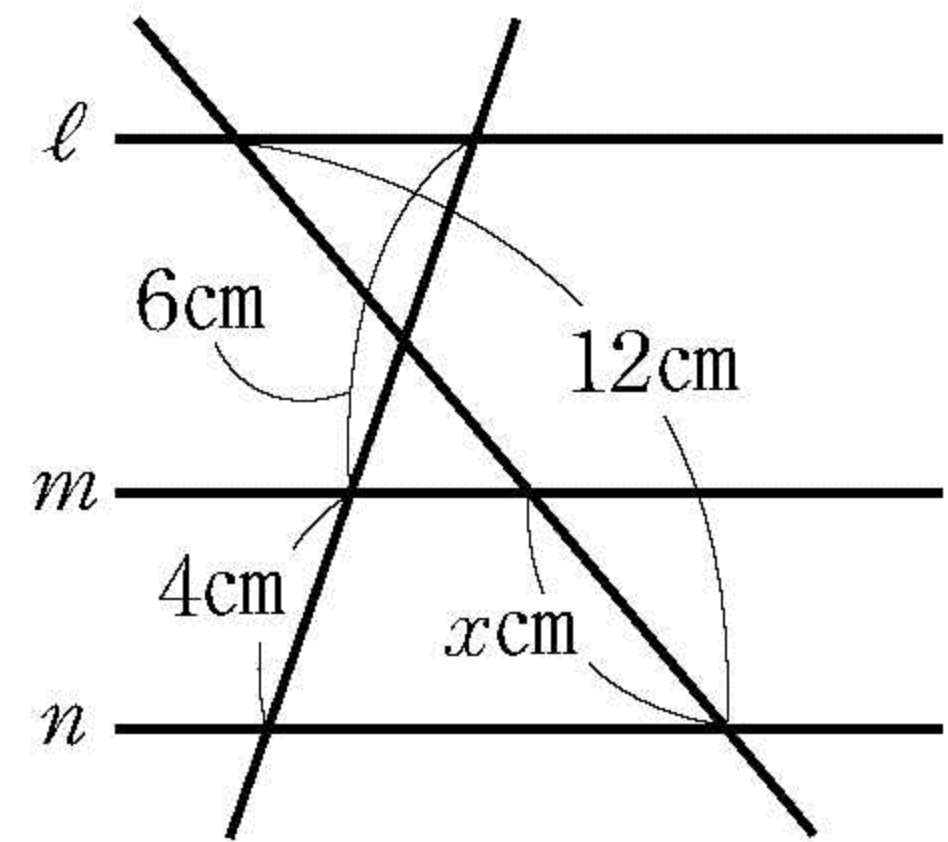
試合の得点	
階級(点)	度数(試合)
0	1
1	5
2	2
3	2
4	6
5	3
6	1
合計	20

(10) $\sqrt{3a}$ が1けたの自然数になるような自然数 a の値をすべて求めなさい。

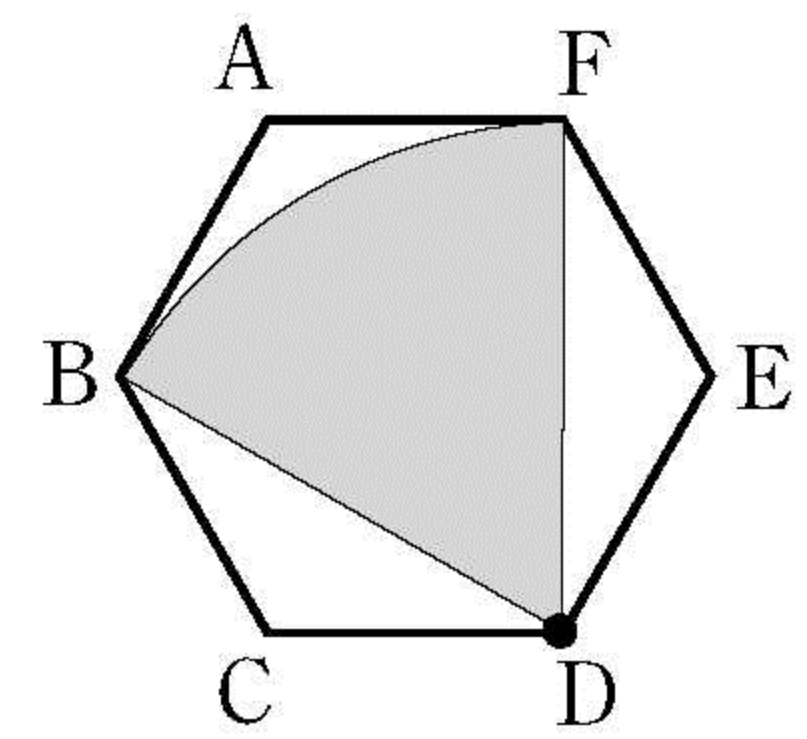
- (11) 右の図で、 $\angle ABD = 49^\circ$ 、 $\angle BAC = 32^\circ$ 、 $\angle BDC = 38^\circ$ である。このとき、 $\angle x$ の大きさを求めなさい。




- (12) 右の図で、3直線 l 、 m 、 n は、いずれも平行である。このとき、 x の値を求めなさい。



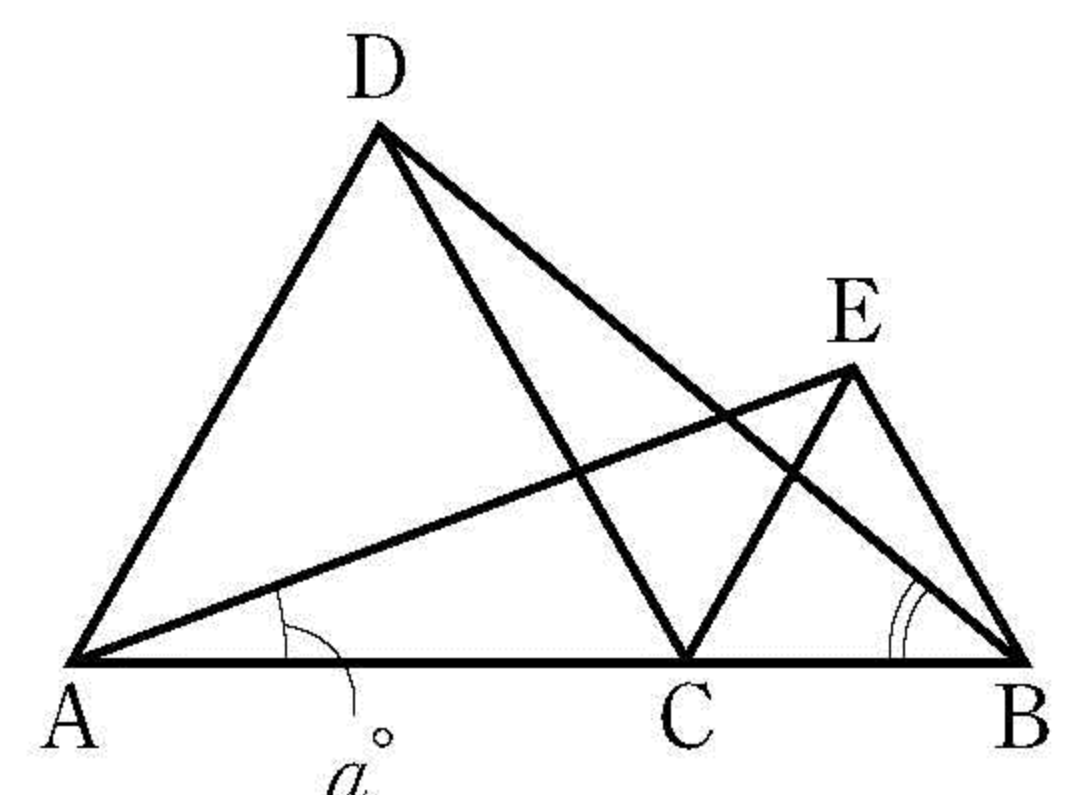
- (13) 右の図で、六角形 ABCDEF は、1 辺の長さが 2 cm の正六角形である。この六角形の対角線 DB を半径とし、 $\angle BDF$ を中心角とするおうぎ形 DBF の面積を求めなさい。ただし、円周率を π とする。



- (14) 右の図で、四角形 ABCD は、 $AB = 7$ cm、 $BC = 4$ cm の長方形である。この長方形を辺 AB を軸として 1 回転させてできる立体の表面積を求めなさい。ただし、円周率を π とする。

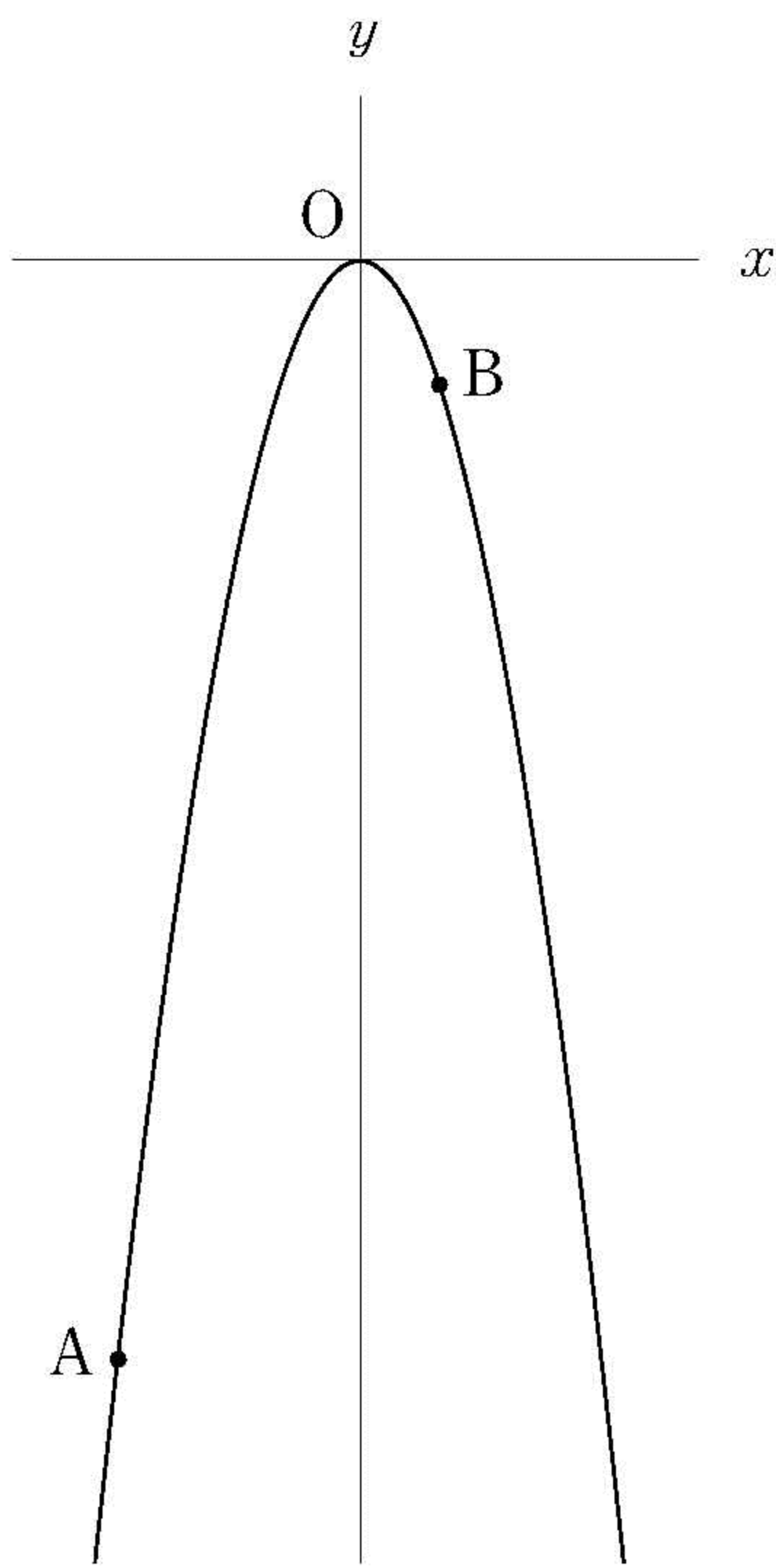


- (15) 右の図で、点 C は線分 AB 上の点であり、 $\triangle DAC$ と $\triangle ECB$ は、それぞれ線分 AC と線分 CB を 1 辺とする正三角形である。 $\angle EAC = a^\circ$ とするとき、 $\angle DBC$ の大きさを a を用いた式で表しなさい。



2 次の(1)~(3)の問いに答えなさい。

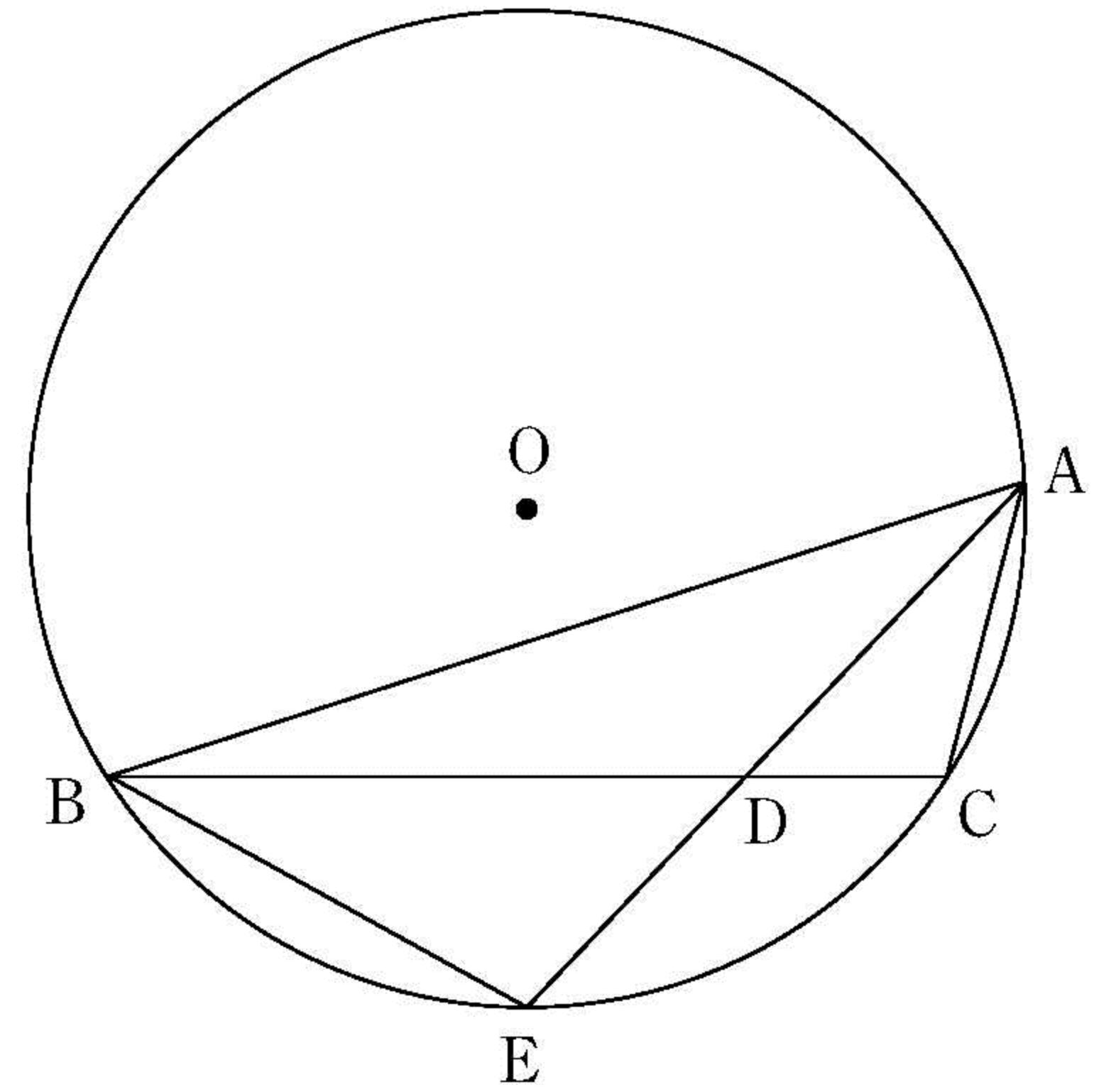
(1) 次の図は、関数 $y = ax^2$ ($a < 0$) のグラフである。2点 A, B は、このグラフ上の点で、 x 座標はそれぞれ $-3, 1$ である。



① $a = -1$ で、 x の変域が $-3 \leq x \leq 1$ のとき、 y の変域を求めなさい。

② 2点 A, B を通る直線の傾きが 3 のとき、 a の値を求めなさい。求める過程も書きなさい。

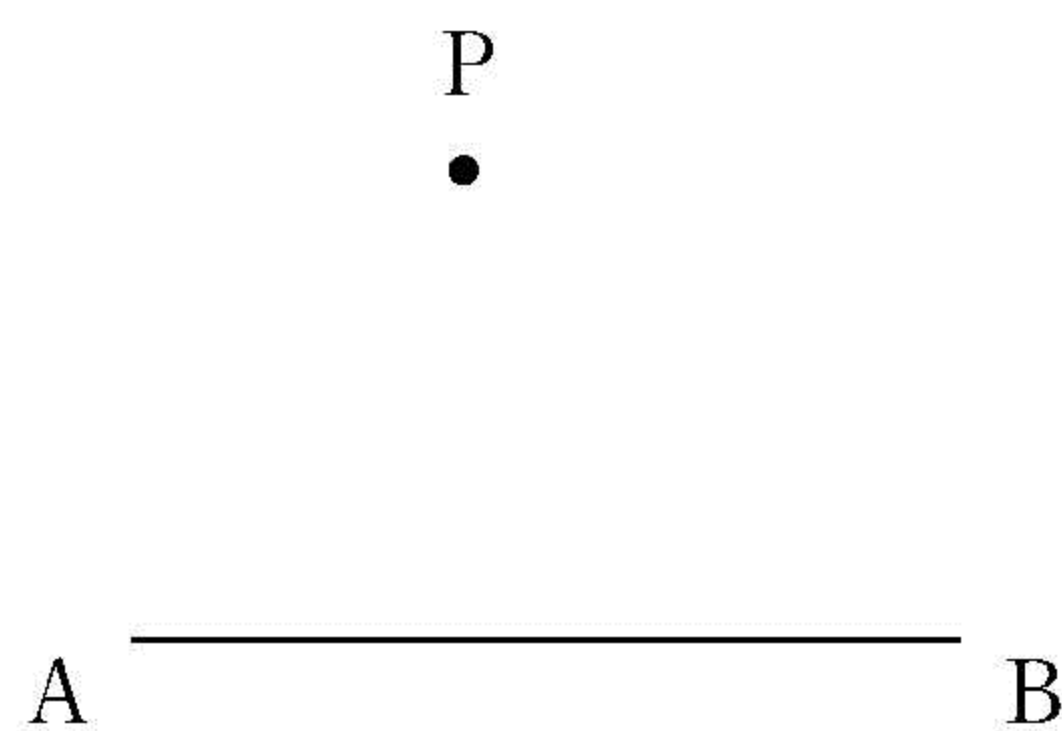
(2) 右の図のように、円 O の周上に点 A, B, C がある。 $\angle BAC$ の二等分線と線分 BC , 円 O との交点をそれぞれ D, E とする。



① $\triangle ABE \sim \triangle BDE$ となることを証明しなさい。

② $AB = 12 \text{ cm}$, $BD = 8 \text{ cm}$, $BE = 6 \text{ cm}$ とするとき、線分 AD の長さを求めなさい。

(3) 図のように、点 P と線分 AB がある。点 P を通り、線分 AB に平行な直線を、定規とコンパスを用いて作図しなさい。ただし、作図に用いた線は消さないこと。



3 健司さんと美咲さんは、次の《ルール》で、かけ算九九表の中から $\begin{array}{|c|c|} \hline a & b \\ \hline c & d \\ \hline \end{array}$ のように、縦、横 2 つずつ並んだ 4 つの数を四角形の枠で囲み、囲んだ数の和の性質について考えた。

《ルール》

4 つの数を四角形の枠で囲むとき、左上の数 a は、かけられる数とかける数が等しくなるようにする。

次の(1)～(3)の問いに答えなさい。

(1) 健司さんは、四角形の枠で囲んだ数の和の性質について、考えたことを説明した。[健司さんの説明 1] が正しくなるように、**ア**には**式**を、**イ**には**数**を書き、完成させなさい。

[健司さんの説明 1]

表 かけ算九九表の一部

		かける数					
		1	2	3	4	5	6
かけられる数	1	1	2	3	4	5	6
	2	2	4	6	8	10	12
	3	3	6	9	12	15	18
	4	4	8	12	16	20	24
	5	5	10	15	20	25	30
	6	6	12	18	24	30	36

表にある $\begin{array}{|c|c|} \hline 4 & 6 \\ \hline 6 & 9 \\ \hline \end{array}$ は、左上の数 a が、かけられる数とかける数が 2 であるように

に囲んだ場合です。このとき、囲んだ数の和は、

$$\begin{aligned} a + b + c + d &= 4 + 6 + 6 + 9 \\ &= 25 \\ &= 5^2 \end{aligned}$$

次に $\begin{array}{|c|c|} \hline 25 & 30 \\ \hline 30 & 36 \\ \hline \end{array}$ と、 a が、かけられる数とかける数が 5 であるように囲んだ場合、

囲んだ数の和は、

$$\begin{aligned} a + b + c + d &= \boxed{\text{ア}} \\ &= \boxed{\text{イ}}^2 \end{aligned}$$

これらのことから、この《ルール》で囲んだとき、囲んだ数の和は奇数の 2 乗であるという性質が成り立ちそうです。



- (2) [健司さんの説明 1]を聞いた美咲さんは、健司さんの予想した性質が成り立つことを文字を使って説明した。[美咲さんの説明]が正しくなるように、**ウ**、**エ**、**カ**には式を、**オ**には式をつかって計算の過程を、**キ**には説明の続きを書き、完成させなさい。

[美咲さんの説明]

左上の数 a のかけられる数を m とすると、かける数も m であるから、 $a = m^2$ と表すことができます。また、 a と同じように右上の数 b 、左下の数 c 、右下の数 d を m を使って表すと、 b と c は等しい数となり、 $b = c =$, $d =$ となります。

$a + b + c + d$ を計算すると、

オ

$$= (2m + 1)^2$$

m は自然数であるから、 $2m + 1$ は奇数になるので、四角形の枠で囲んだ数の和は奇数の 2 乗になることがわかります。

さらに、 $(2m + 1)^2 = \left\{ m + \left(\text{カ} \right) \right\}^2$ と表すことができるので、囲んだ数

の和は、 m からはじまる の和の 2 乗になることがわかります。



- (3) 健司さんは、[美咲さんの説明]でわかった四角形の枠で囲んだ数の和の性質が、かけ算九九表を 10 の段、11 の段、…と広げた場合でも成り立つことに気づき、その性質を利用した。[健司さんの説明 2]が正しくなるように、**ク**、**ケ**、**コ**に数を書き、完成させなさい。

[健司さんの説明 2]

囲んだ 4 つの数が

a	380
380	400

 となる場合は、 $a =$ ² となり、

囲んだ数の和は、 $\left(\text{ク} + \text{ケ} \right)^2$ になります。

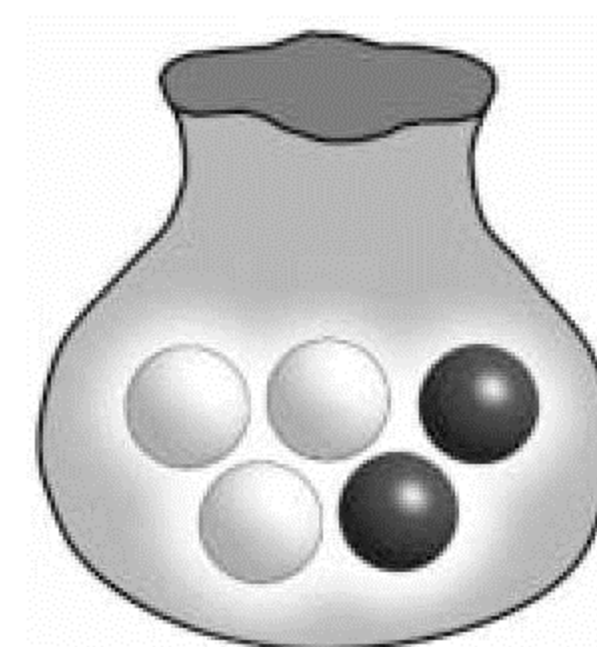
また、四角形の枠で囲んだ数の和が 625 となるのは、左上の数が ² のときです。



4 次の(1),(2)の問いに答えなさい。

(1) 図のように、袋の中に、赤玉が2個、白玉が3個入っている。この袋の中から、はじめに太郎さんが玉を1個取り出す。取り出した玉を袋に戻さず、次に洋子さんが玉を1個取り出す。このとき、2人の取り出した玉が異なる色であれば太郎さんの勝ち、同じ色であれば洋子さんの勝ちとする。太郎さんと洋子さんのうちで勝ちやすいのはどちらか、次のア～ウから正しいものを1つ選び、それが正しいことの原因を、2人の勝つ確率をもとに書きなさい。ただし、どの玉が取り出されることも同様に確からしいものとする。

- ア 太郎さん
- イ 洋子さん
- ウ 2人とも同じ

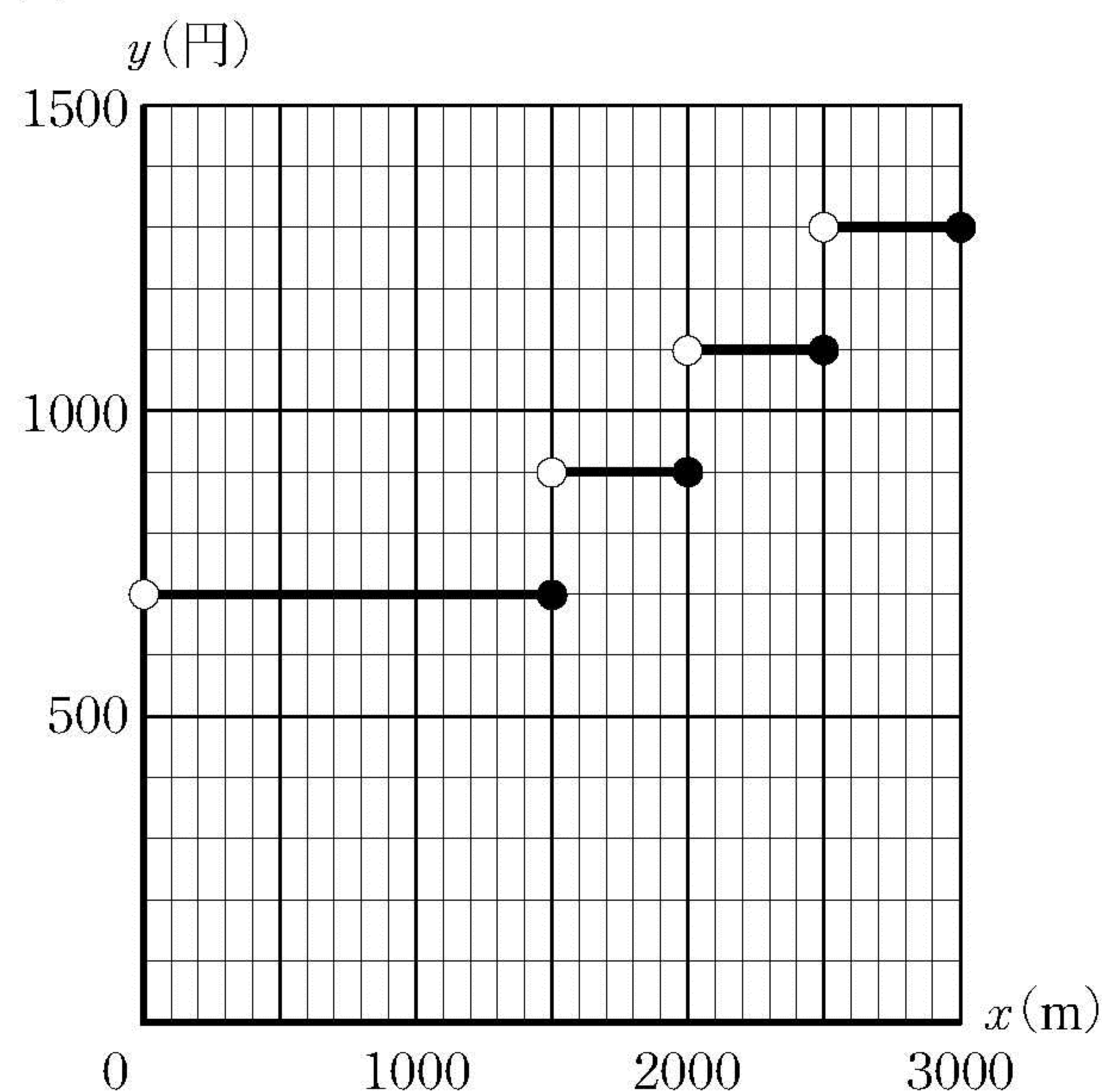


(2) 表は、2つのタクシー会社の走行距離と料金の関係を、それぞれまとめたものである。図は、A社について、乗りはじめてからの走行距離を x m、そのときの料金を y 円として、 x と y の関係をグラフに表したものである。なお、グラフで端の点をふくむ場合は●、ふくまない場合は○を使って表している。

表

	乗りはじめてからの走行距離と料金
A社	<ul style="list-style-type: none"> • 走行距離が1500mまでは700円 • 1500mを超えると200円加算 • 2000mを超えるとさらに200円加算 • 以後500mを超えるごとに200円ずつ加算
B社	<ul style="list-style-type: none"> • 走行距離が1000mまでは500円 • 1000mを超えると270円加算 • 1600mを超えるとさらに270円加算 • 以後600mを超えるごとに270円ずつ加算

図



① A社において、 y は x の関数といえるか、いえないか、正しい方を○で囲み、その理由を書きなさい。

② 走行距離が2700mのとき、料金はどちらの会社がどれだけ安いのか、求めなさい。

5 次の I, II から, 指示された問題について答えなさい。

I 図 1 は三角錐 V の展開図であり, 面 ABC は $BC = CA = 4\text{cm}$, $\angle ACB = 90^\circ$ の直角二等辺三角形, 面 ACD は $CD = 8\text{cm}$, $\angle ACD = 90^\circ$ の直角三角形, 面 BCE は $\angle BCE = 90^\circ$ の直角三角形である。図 2 は, 図 1 の展開図を面 ABC を底面にして組み立てたときの三角錐 V の投影図である。次の (1)~(3) の問いに答えなさい。

図 1

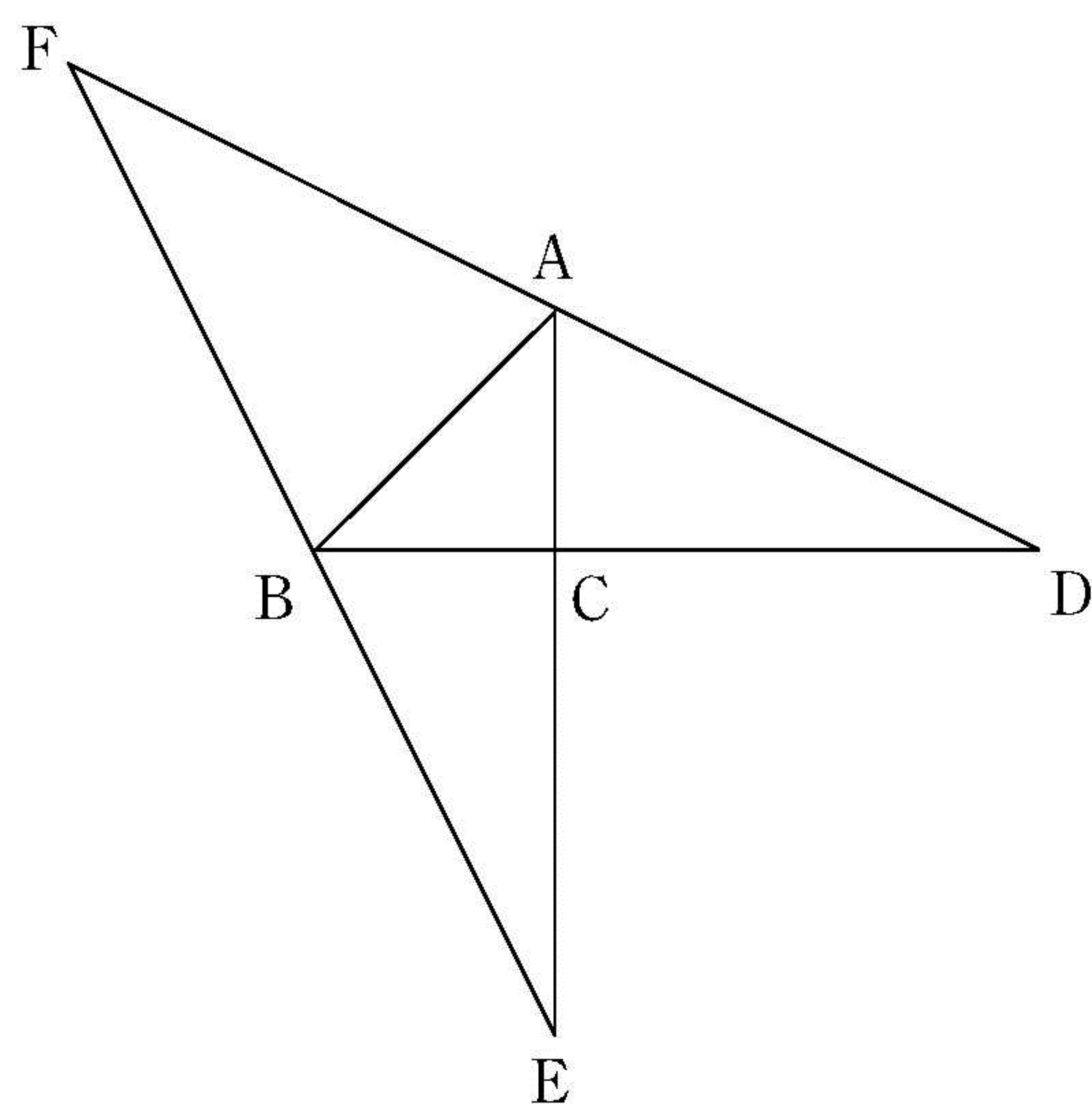
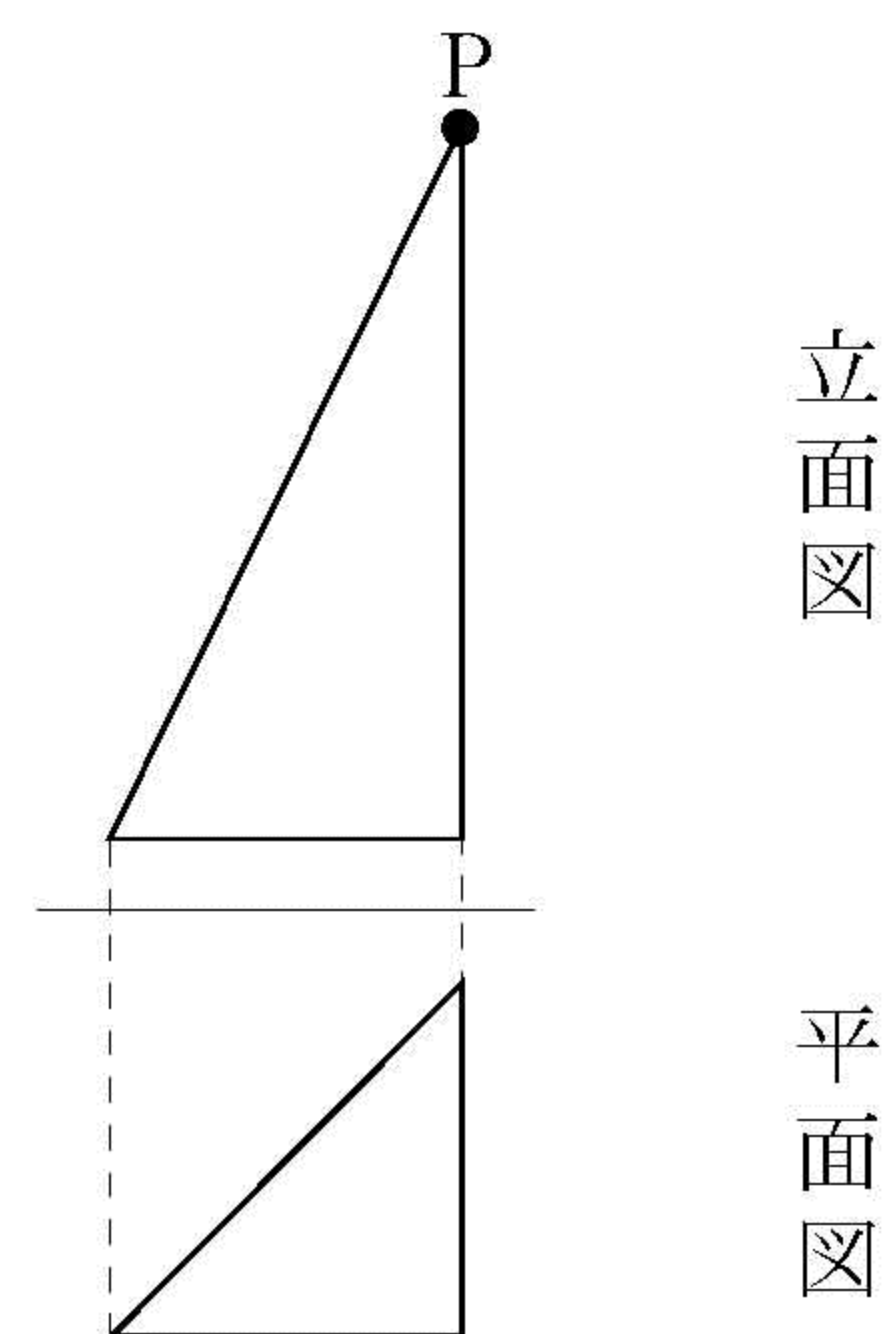


図 2



(1) 立面図の点 P の位置に集まる頂点を, A ~ F の中から **すべて** 選んで記号を書きなさい。

(2) 辺 AF の長さを求めなさい。求める過程も書きなさい。

(3) 点 C を頂点, 面 FBA を底面としたときの三角錐 V の高さを求めなさい。

Ⅱ 図 1 は三角錐 V の展開図であり、 $AC = 8\text{ cm}$ 、 $BC = 6\text{ cm}$ 、 $\angle ACB = \angle CBD = 90^\circ$ 、面 ACE は正三角形である。図 2 は、図 1 の展開図を面 ABC を底面にして組み立てたときの三角錐 V の投影図の一部である。次の(1)～(3)の問いに答えなさい。

図 1

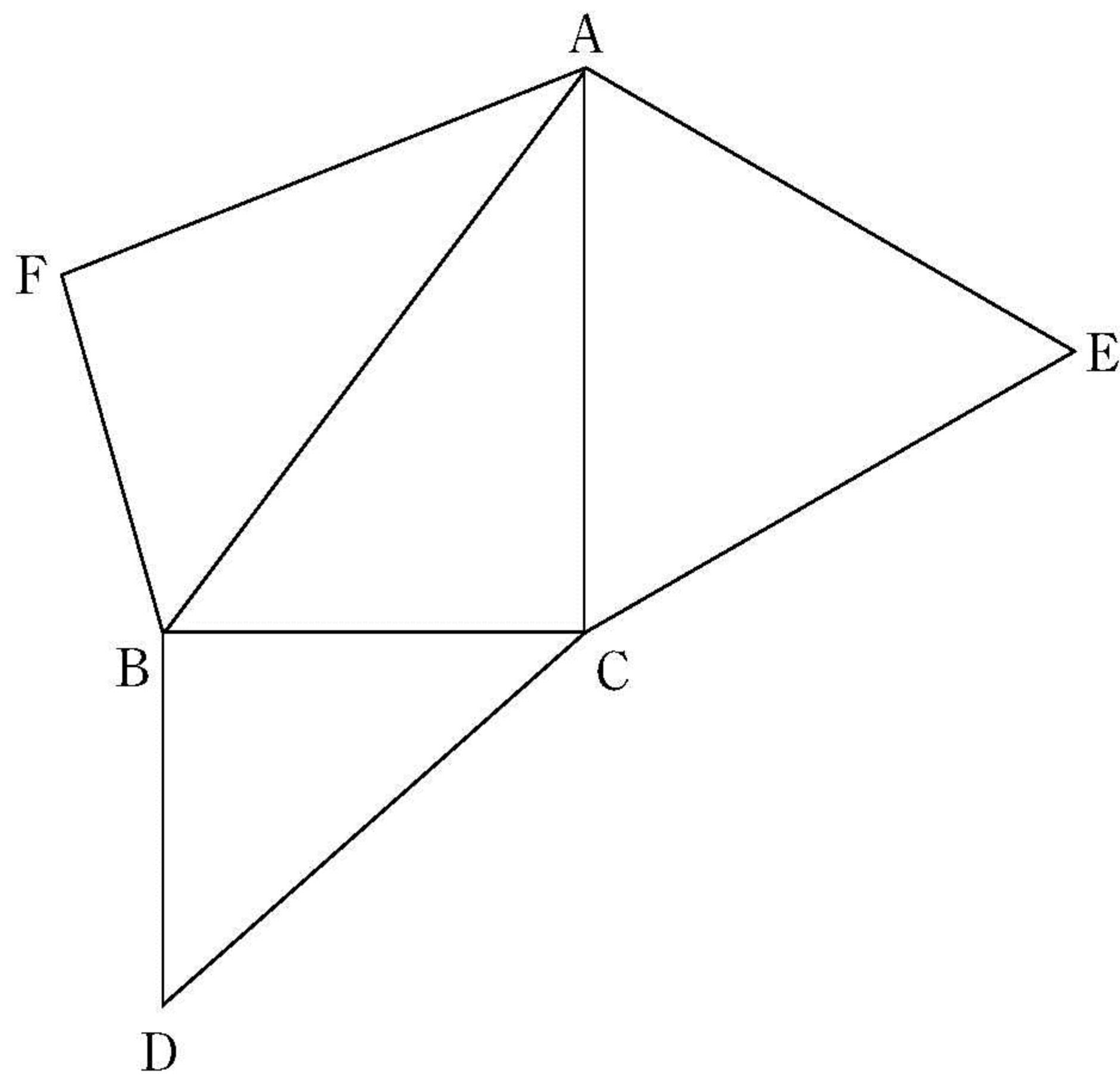
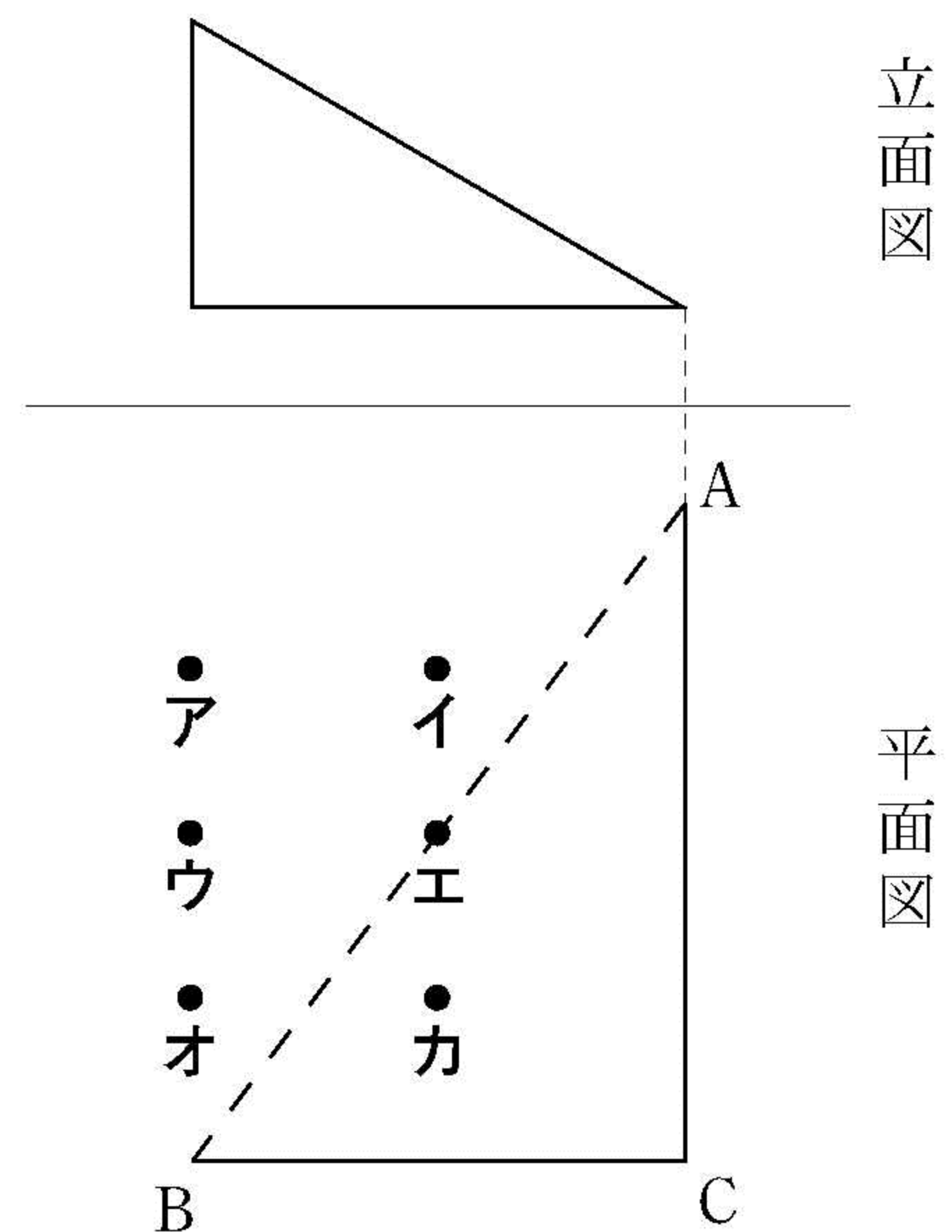


図 2



- (1) 辺 BF の長さを求めなさい。求める過程も書きなさい。
- (2) 平面図における頂点 D の位置として最も適切な点を、上のア～カの点の中から 1 つ選んで記号を書きなさい。
- (3) 三角錐 V の体積を求めなさい。