

平成25年度学力検査問題

社 会

( 5 時間目 50分 )

注 意

- 1 問題用紙と解答用紙の両方の決められた欄に，受検番号と氏名を記入しなさい。
- 2 問題用紙は開始の合図があるまで開いてはいけません。
- 3 問題は1ページから6ページまであり，これとは別に解答用紙が1枚あります。
- 4 答えは，すべて解答用紙に記入しなさい。

受検番号		氏 名	
------	--	-----	--

1 次の地図と図や表を見て、(1)、(2)の問いに答えなさい。

(1) 次は、生徒が世界の国々のうち、ブラジルについて調べた内容の一部である。

○首都はブラジリアである。東京からの方位と距離を正しく表している下の地図で確認すると、およそ **X** の方位にある。

○ブラジルの主な都市の気候は、大部分は熱帯だが、ブラジリアより南にあるサンパウロは東京と同じ気候帯である。

○サンパウロでは、2014年のサッカーワールドカップの開幕試合が行われる。サンパウロの標準時子午線は西経45度であり、10月から2月の期間はサマータイムを実施している。

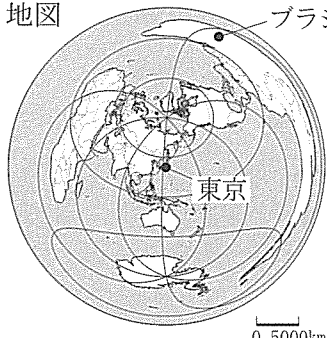
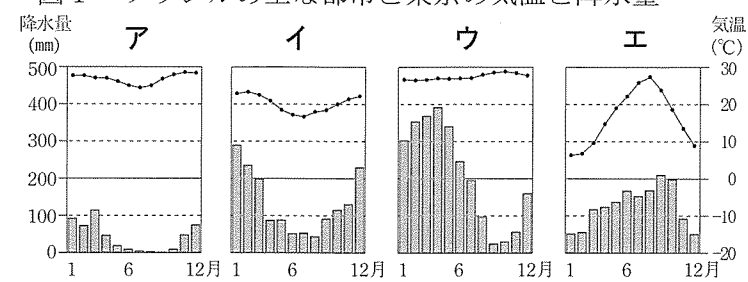
地図  ブラジリア 東京

図1 ブラジルの主な都市と東京の気温と降水量



(「理科年表 平成24年」などから作成)

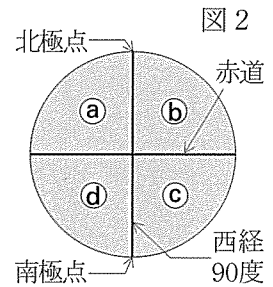
① **X** にあてはまる方位を、一つ選んで記号を書きなさい。

ア 北北東    イ 北北西    ウ 西北西    エ 東南東    オ 南南東

② 図1の**ア**～**エ**から、サンパウロにあてはまるものを、一つ選んで記号を書きなさい。

③ 図2は、地球儀をある角度から見た模式図である。サンパウロの位置する範囲を、図2の**㉑**～**㉔**から一つ選んで記号を書きなさい。

④ 開幕試合は現地時間の6月12日午後5時に開始される。その時の日本の日時を、例にしたがって書きなさい。例 1月1日午後1時



(2) ヨーロッパ州とアフリカ州に関連した問題である。

表 ヨーロッパ州とアフリカ州の比較 (2009年)

項目	I		II			
	二酸化炭素 排出量(百万t)	火力発電量 (億kWh)	自動車の保有 台数(千台)	人口密度 (人/km <sup>2</sup> )	人口 (百万人)	面積 (百万km <sup>2</sup> )
ヨーロッパ	5 801.0	26 797	A		732	23.0
アフリカ	790.6	4 794		1 010	30.3	

※項目Iの数値と項目IIの自動車の保有台数の数値は、各州の主な国の合計である。  
(「世界国勢図会」2012/13年版などから作成)

① 次は、表の項目Iと図3から読みとれることを関連付けてまとめたものである。**Y** にあてはまる内容を、次の語を用いて書きなさい。〔エネルギー〕

二酸化炭素排出量が多い原因の一つは、**Y** である。

② 表の項目IIの**A** にあてはまる数値の正しい組合せを、一つ選んで記号を書きなさい。

ア	334 463	129	イ	18 112	129	ウ	334 463	32	エ	18 112	32
	18 112	22		334 463	22		18 112	33		334 463	33

※白い部分は電気の光。  
(アメリカ航空宇宙局  
ホームページから作成)

2 次の地図と表や図、写真、資料を見て、(1)～(4)の問いに答えなさい。

地図

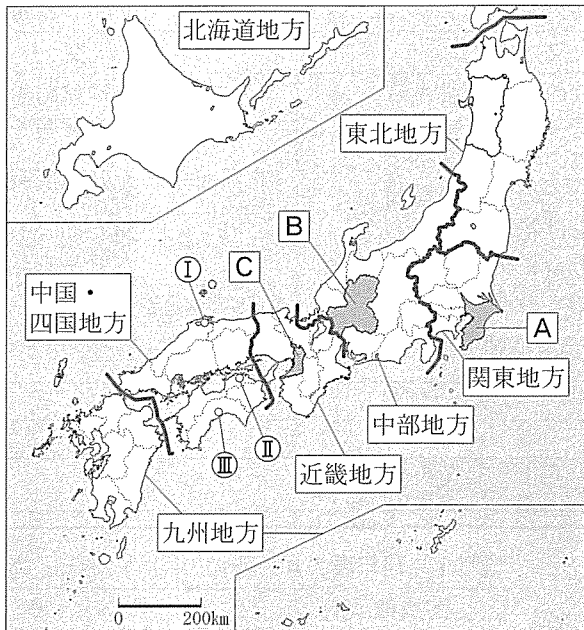
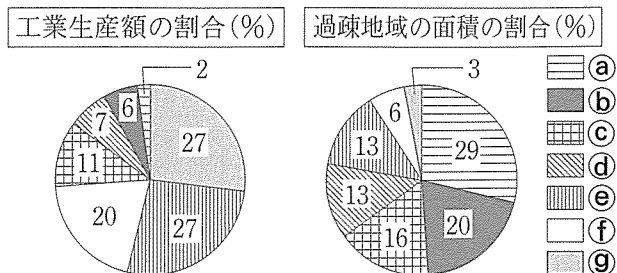


表1 秋田県と地図のA～Cの府県の比較

項目 府県	*昼夜間人口比率(%)	65歳以上の人口の比率(%)	食料自給率(%)
㊸	89.1	21.5	29
㊹	95.9	24.1	24
㊺	99.9	29.6	175
㊻	104.9	22.4	2

\*昼夜間人口比率とは、夜間人口を100としたときの昼間人口の割合。

図 地図の7地方区分別の比較



(表1, 図は「データでみる県勢」2012年版などから作成)

(1) 地図の①～⑩で示す県庁所在地の中で、1月の降水量が最も多い都市の名称を書きなさい。

(2) 表1の㊸～㊻から、秋田県を示すものを、一つ選んで記号を書きなさい。

(3) 図のb, fにあてはまる地方区分の正しい組合せを、一つ選んで記号を書きなさい。

- ア b 東北地方 f 近畿地方      イ b 中部地方 f 中国・四国地方  
ウ b 中部地方 f 近畿地方      エ b 東北地方 f 中国・四国地方

(4) 佐賀県と秋田県の農業に関連した問題である。

表2 農業産出額上位3品目

	佐賀県	秋田県
1	米	米
2	肉用牛	豚
3	X	Y

表3 表2のXとYの収穫量上位3県

	X	Y
1	和歌山県	青森県
2	愛媛県	長野県
3	静岡県	岩手県

(表2, 表3は「データでみる県勢」2012年版などから作成)

① 表2のXとYにあてはまる果樹名を、それぞれ一つずつ書きなさい。

② 写真1と写真2について、畑の水はけをよくするために、地形のどのような特色を利用しているか、写真から共通して読みとれることを書きなさい。

③ 佐賀県の耕地利用の特色のうち、表4と資料から読みとれることを、冬の気温に触れながら、次の語を用いて書きなさい。〔有効活用〕

表4 耕地面積と作付け延べ面積(ha)

	耕地面積	作付け延べ面積
佐賀県	54 500	72 200
秋田県	150 700	127 300

資料 佐賀県と秋田県の月平均気温の差と

月	1	2	3	4	5	6	7	8	9	10	11	12
佐賀-秋田(°C)	5.3	6.2	6.3	5.4	4.9	4.1	3.9	2.9	3.8	4.6	5.0	4.7
作物の栽培期間	麦			稲			麦					
・耕地面積	1.5ha			・作付け延べ面積			3.0ha (うち、稲1.5ha, 麦1.5ha)					

(表4, 資料は農林水産省ホームページなどから作成)

3 次のノートと歴史新聞や略年表は、生徒が作成したものの一部である。これらと資料や図、表を見て

ノート（略年表のAの時代の特色を生徒がまとめたもの）

	政治	文化	外交
主な内容	あ …武士として初めて政治の実権をにぎる。 源頼朝 } 征夷大將軍に就 足利尊氏 } き、幕府を開く。	・新しい仏教の教えが広まる。 （例）浄土真宗、日蓮宗、禅宗など ・武家と公家の文化が融合する。 （例）い の別荘の金閣など ・茶の湯、生け花が流行する。 ・床の間のある書院造が誕生する。	あ …港や航路を整え宋と貿易を行う。 北条時宗…元と二度戦う。 い …明と勘合を用いた貿易を始める。
特色	武士が大きな力をもってきた。	今に結びつくものが多く生まれた。	東アジア諸国と密接に関わっていた。

略年表

世紀	6	7	8	9	10	11	12
時代	古代						
		X					

(1) ノートの内容に関連した問題である。

資料1 略年表のAの時代の「法律」のまとめ

- ① ノートの「あ」と「い」にあてはまる人物名を、それぞれ書きなさい。
- ② 資料1の「う」と「え」にあてはまる語を、それぞれ書きなさい。

主な内容	御成敗式目 ・将軍と主従関係を結んだ武士である「う」たちの土地争いなどを公平に裁くために定めた。 ・長く武士の法律の手本とされた。 【・戦国大名の分国法 ・江戸幕府の「え」など
------	--


(2) 略年表の古代、近世について、「文化」の特色の一つを説明するとき用いる絵画として最も適切なものを、それぞれ一つずつ選んで記号を書きなさい。

ア                                  イ                                  ウ                                  エ

東海道五十三次(歌川広重)      秋冬山水図(雪舟)                  湖畔(黒田清輝)                  源氏物語絵巻

(3) わが国の「外交」の歴史に関連した問題である。

- ① 略年表の「X」, 「Y」, 「Z」の期間は、それぞれ外交面の共通性を見いだして区切ったものである。それぞれの内容として適切なものを、一つずつ選んで記号を書きなさい。
- ア 来航できる外国船を限定するなど、幕府が貿易を統制していた。
- イ 韓国を朝鮮とあらため、朝鮮総督府を置き植民地支配をしていた。
- ウ 遣隋使や遣唐使を派遣して、すすんだ制度や文化などを学んでいた。
- エ 「冷たい戦争」とよばれる東西対立の中、西側陣営の一員となっていた。
- オ 鉄砲が伝えられたことを契機に、大名や商人が諸外国と貿易を行っていた。

② 資料2は、略年表の「」の期間に結ばれたある条約の影響の一つを整理したものである。現在、観光資源になっている下線部が各都市につくられた理由を、条約名と次の語を用いて書きなさい。〔外国人〕

資料2 各都市の観光キャッチコピー

・函館市…「和洋折衷住宅」の魅力発見
・横浜市…「外国人墓地」周辺で歴史探訪
・神戸市…「異人館」で異国情緒を満喫
(各自治体ホームページなどから作成)

(1)～(5)の問いに答えなさい。

歴史新聞（略年表のBの時代の学習で生徒が年号ごとにまとめたもの）

I

原敬内閣, 誕生

お

新聞

a

中心の  
内閣に期待

世界大戦に  
連合国側で参戦

II

海軍将校, 犬養首相暗殺

お

新聞

b

軍が主導する政治から  
の政治へ

日・独・伊で  
軍事同盟成立

III

ついに国会開設を決定

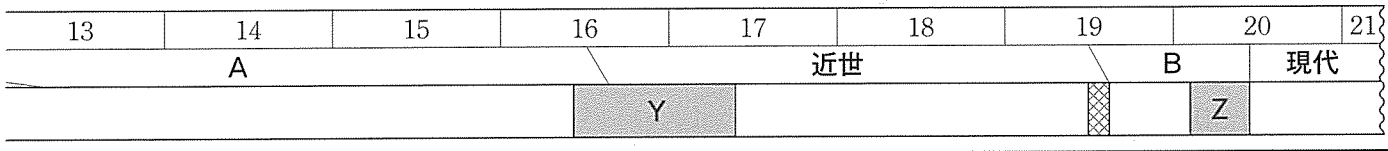
お

新聞

c

大隈重信らが動く  
の結成へ

イギリスと  
同盟を結ぶ



(4) I～IIIの歴史新聞の内容に関連した問題である。

① a～cにあてはまる語の正しい組合せを、一つ選んで記号を書きなさい。

- |                  |                  |
|------------------|------------------|
| ア a 昭和 b 大正 c 明治 | イ a 昭和 b 明治 c 大正 |
| ウ a 明治 b 昭和 c 大正 | エ a 明治 b 大正 c 昭和 |
| オ a 大正 b 明治 c 昭和 | カ a 大正 b 昭和 c 明治 |

② IIIの歴史新聞にのせる内容として適切なものを、二つ選んで記号を書きなさい。

- |                    |                     |
|--------------------|---------------------|
| ア 樋口一葉が「たけくらべ」を著す。 | イ 松尾芭蕉が「奥の細道」を著す。   |
| ウ 志賀直哉が「城の崎にて」を著す。 | エ 福沢諭吉が「学問のすゝめ」を著す。 |

③ ㊦に共通してあてはまる語を書きなさい。

(5) 略年表のBの時代から現代への移り変わりに関連した問題である。

① 図1のア、イから、小作地を示すものを、一つ選んで記号を書きなさい。また、小作地の所有者を何というか、書きなさい。

② 略年表の現代になってから変化したことのうちで、表と図2から共通して判断できる内容を解答欄にしたがって書きなさい。

図1 小作地と自作地の割合の変化

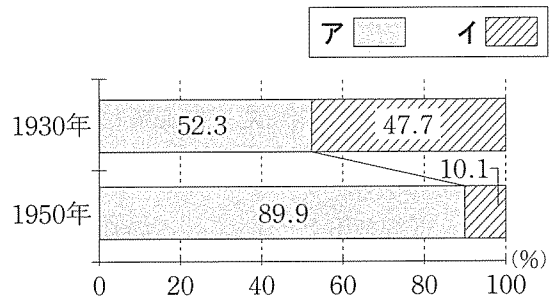
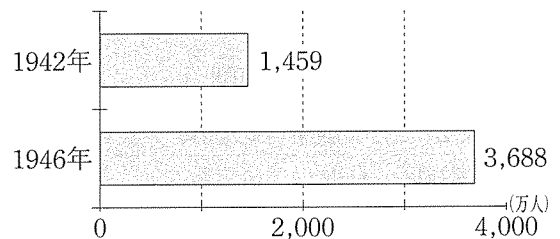


表 民法の比較

	1898年制定時の民法	1948年施行の民法
夫婦関係	<ul style="list-style-type: none"> <li>妻は、夫の姓を名のる。</li> <li>妻の財産は、夫が管理する。</li> </ul>	<ul style="list-style-type: none"> <li>夫または妻の姓を名のる。</li> <li>夫、妻の財産は、それぞれが管理する。</li> </ul>
相続方法	<ul style="list-style-type: none"> <li>戸主（一般的には長男）が相続する。</li> </ul>	<ul style="list-style-type: none"> <li>夫婦は互いに相手の相続人となる。</li> <li>子どもは均等に親の財産を相続する。</li> </ul>

図2 有権者数の変化

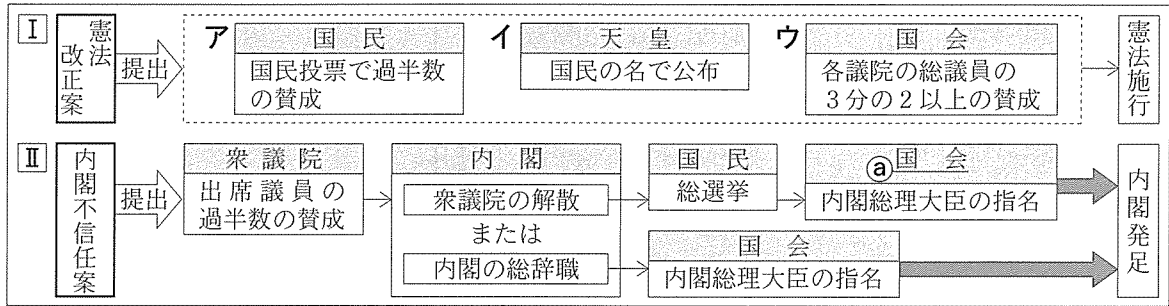


(図1, 図2は「日本長期統計総覧」などから作成)

4 次の図と表を見て、(1)、(2)の問いに答えなさい。

(1) わが国の政治のしくみに関連した問題である。

図1 主な案の提出後の手続き



① Iのア～ウを、正しい順に並べ替え、記号を書きなさい。

② 下線部③の国会の種類を、一つ選んで記号を書きなさい。

ア 通常国会      イ 臨時国会      ウ 特別国会      エ 緊急集会

③ 次は、内閣のしくみや役割をまとめたものである。あといにあてはまる語を、それぞれ書きなさい。ただし、あには同じ語が入る。

IIの➡で示した期間の手続きには、内閣総理大臣によるあの任命などがある。また、内閣総理大臣とその他のあによって組織される内閣は、三権のうちいをもつ。

(2) 次は、授業で行った模擬選挙の結果と生徒の会話である。

	X班	Y班	Z班
得票数	15	9	6
*配分方法			
得票数÷1	①15.0	②9.0	④6.0
〃÷2	③7.5	⑥4.5	3.0
〃÷3	⑤5.0	3.0	2.0
〃÷4	3.75	2.25	1.5
議席配分数	3	2	1

\*数値の高い①～⑥の順に議席を配分する。

生徒A: 今回は、個人名ではなく、班名を書いて投票したから、うの方法と同じだね。

生徒B: この方法は、Z班にも議席が配分されたように、えも結果に反映されやすいね。

生徒A: ところで、選挙の課題には何があるのかな。

生徒B: 前に「一票の格差」が⑥違憲状態だと判断されたという記事が新聞にのっていたよ。

① うにあてはまる語を、一つ選んで記号を書きなさい。また、えにあてはまる内容を書きなさい。

ア 小選挙区制      イ 大選挙区制      ウ 比例代表制

② 下線部⑥について、この判断を最終的に行う機関名を書きなさい。

③ 図2のように、「一票の格差」が拡大する原因の一つを、表2と表3から読みとり、次の語を用いて書きなさい。〔大都市圏〕

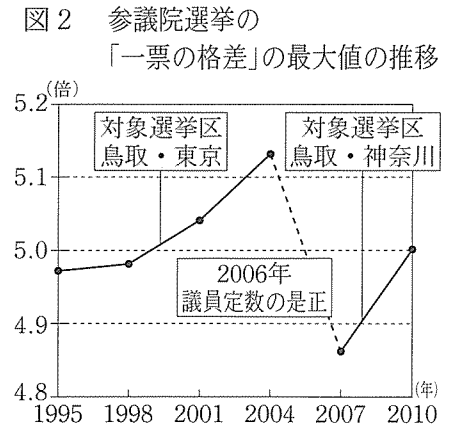


表2 主な選挙区の議員一人あたりの有権者(人)

選挙区	鳥取 (議員定数2)		東京 (議員定数8)	
年	2001	2004	2001	2004
有権者数	244 913	246 218	1 233 477	1 264 178

表3 主な都県の転入者・転出者(人)

期間(年)	都県名	転入者	転出者
2001～04	東京	1 767 126	1 486 452
2007～10	神奈川	920 393	821 920

(図2, 表2, 表3は総務省資料などから作成)

5 次の資料や図を見て、(1)～(3)の問いに答えなさい。

(1) 消費活動に関連した問題である。

① 資料1のような支払い方式をとるカードの総称を、一つ選んで記号を書きなさい。

- ア プリペイドカード    イ ポイントカード  
ウ キャッシュカード    エ メンバースカード

② 図1のア～キで示した矢印から、商品の代金としての貨幣（通貨）の流れを表しているものを、すべて選んで記号を書きなさい。

資料1 商品購入で使用するカード(例)

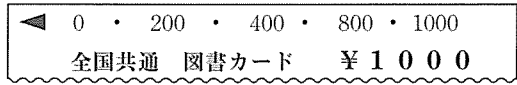
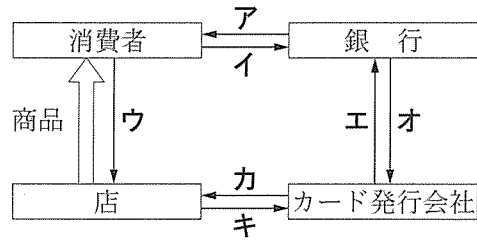


図1 クレジットカードでの買物のしくみ(例)



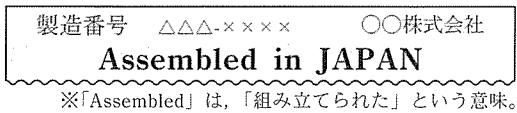
(2) 次は、資料2と資料3から読みとったことをもとに、生徒がまとめたものである。

近年、工業製品に資料2のような表示が見られます。資料2と資料3からは、グローバル化が進む現代社会で、あが行われていることが分かります。また、世界各地では、ある特定の地域がまとまりをつくり、協調や協力を強めています。

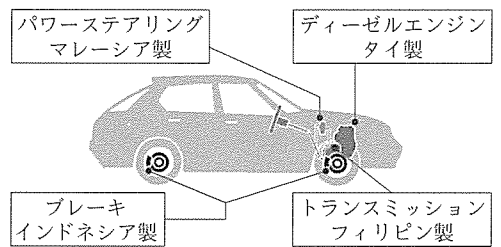
① あにあてはまる語を書きなさい。  
② 下線部について、わが国が加盟している地域のまとまりを、一つ選んで記号を書きなさい。

- ア EU                          イ APEC  
ウ NAFTA                  エ ASEAN

資料2 パソコンの製品表示(例)



資料3 日本車の主な部品の製造国(例)



(経済産業省資料から作成)

(3) 政府の経済活動に関連した問題である。

① 次の X と Y にあてはまる語の正しい組合せを、一つ選んで記号を書きなさい。

一般に不景気ときは、市場の通貨量を増やすために、政府は公共投資を X。また、「銀行の銀行」である日本銀行は、金融政策として国債や手形を Y。

- ア X 減らす    Y 売る                      イ X 減らす    Y 買う  
ウ X 増やす    Y 売る                      エ X 増やす    Y 買う

② 図2の消費税が、グラフのような負担率になる理由を解答欄にしたがって書きなさい。

また、消費税の歳入面の長所を図3から読みとり、次の語を用いて書きなさい。〔確保〕

図2 給与所得に対する税負担率

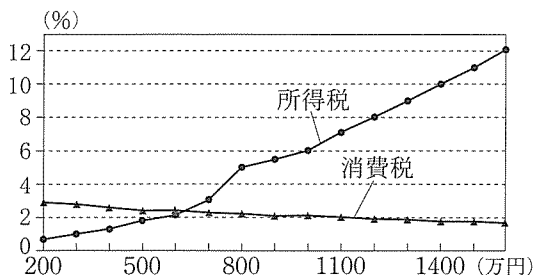
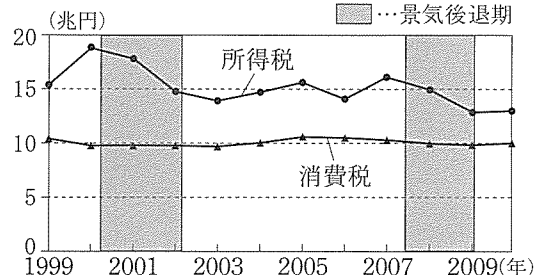


図3 所得税と消費税の税収の推移



(図2、図3は財務省資料などから作成)